



# 円と球 10

● 球の半径や直径の長さ

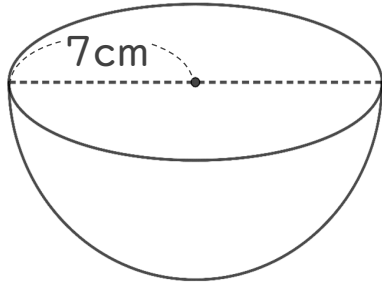
13

日にち：            月            日

名まえ \_\_\_\_\_

・ 次の円の半径や直径は何cmですか。

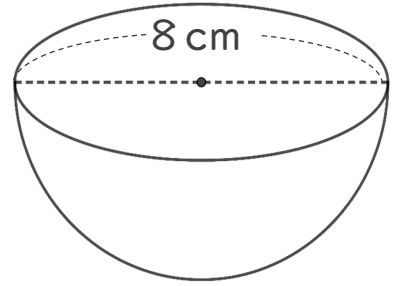
① 直径は何cmですか。



式：

答え： \_\_\_\_\_

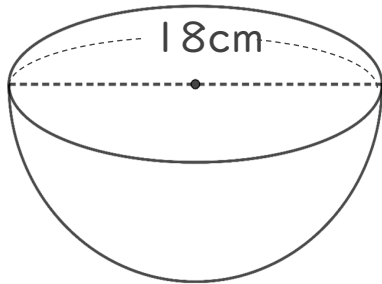
③ 半径は何cmですか。



式：

答え： \_\_\_\_\_

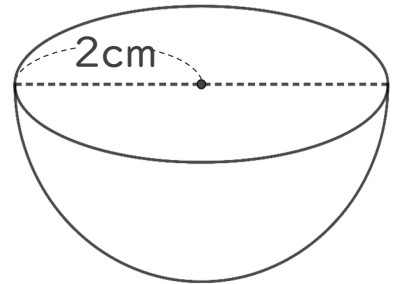
② 半径は何cmですか。



式：

答え： \_\_\_\_\_

④ 直径は何cmですか。



式：

答え： \_\_\_\_\_



# 円と球 10

● 球の半径や直径の長さ

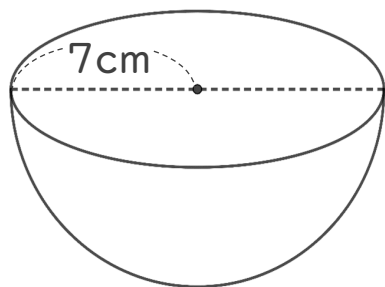
13

日にち：      月      日

名まえ \_\_\_\_\_

・ 次の円の半径や直径は何cmですか。

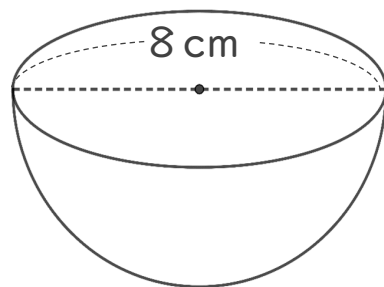
① 直径は何cmですか。



式： $7 \times 2 = 14$

答え：14 cm

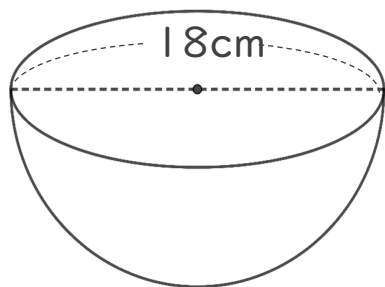
③ 半径は何cmですか。



式： $8 \div 2 = 4$

答え：4 cm

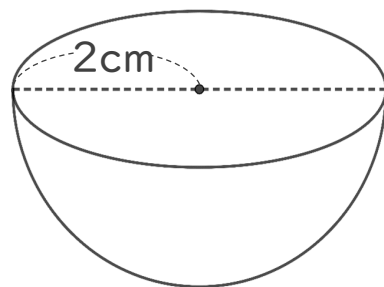
② 半径は何cmですか。



式： $18 \div 2 = 9$

答え：9 cm

④ 直径は何cmですか。



式： $2 \times 2 = 4$

答え：4 cm