



# 三角形と角 10

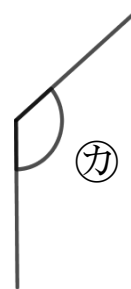
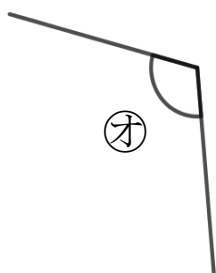
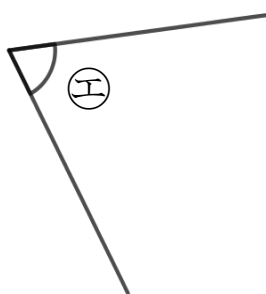
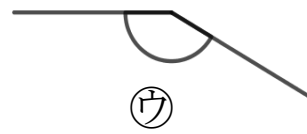
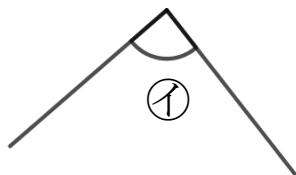
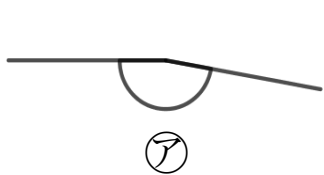
● 角を大きい  
じゅんにならべる



日にち： 月 日

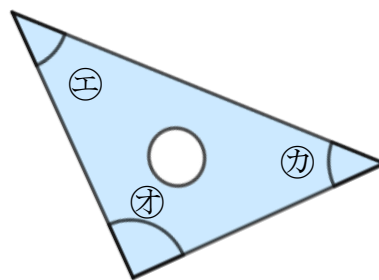
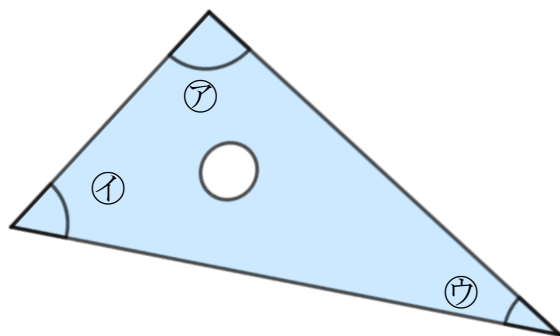
名まえ \_\_\_\_\_

1 次の角の大きさをくらべて、大きいじゅんにいしましょう。



答え：            →            →            →            →            →

2 三角じょうぎの、かどの形を調べましょう。



① 直角になっているかどは、どれですか。

答え：

\_\_\_\_\_

② いちばんとがってるかどは、どれですか。

答え：

\_\_\_\_\_



# 三角形と角 10

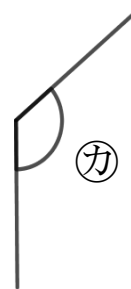
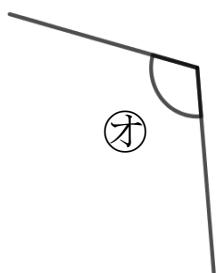
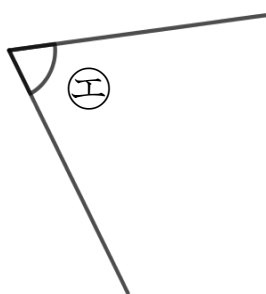
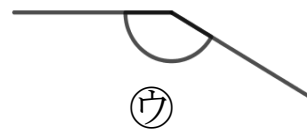
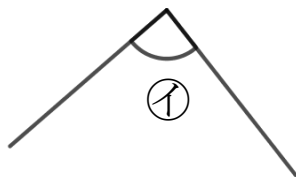
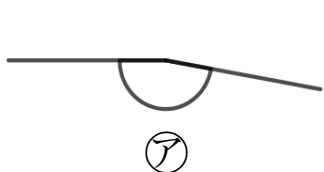
● 角を大きい  
じゅんにならべる



日にち： 月 日

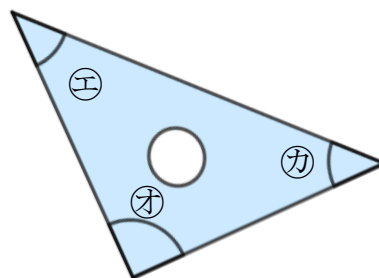
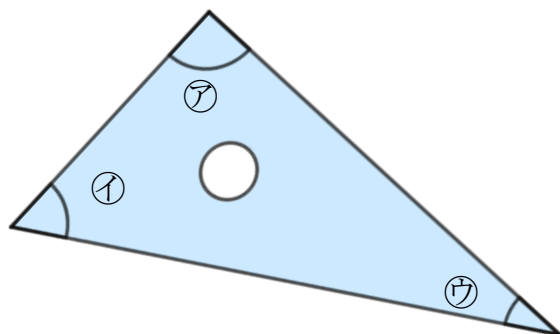
名まえ \_\_\_\_\_

1 次の角の大きさをくらべて、大きいじゅんにいしましょう。



答え： **ア** → **ウ** → **カ** → **オ** → **イ** → **エ**

2 三角じょうぎの、かどの形を調べましょう。



① 直角になっているかどは、どれですか。

答え： **ア, オ**

② いちばんとがってるかどは、どれですか。

答え： **ウ**