



三角形と角 10

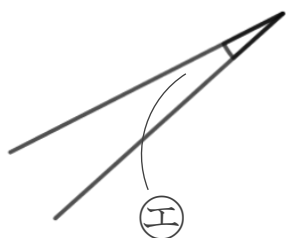
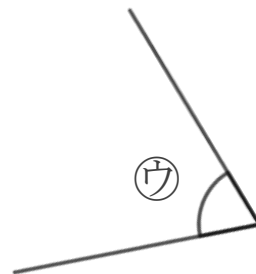
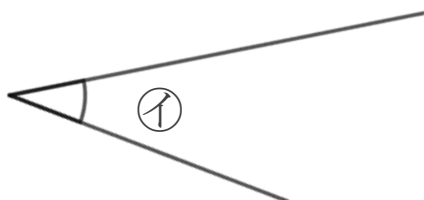
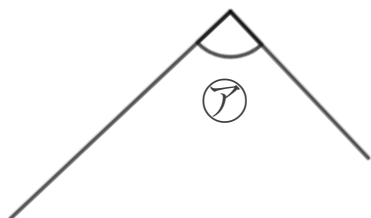
● 角を大きい
じゅんにならべる

13

日にち： 月 日

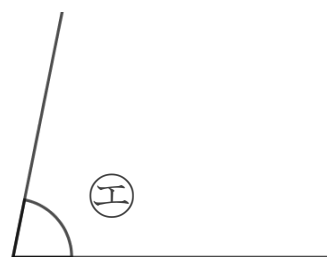
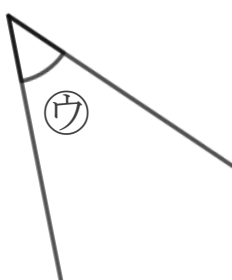
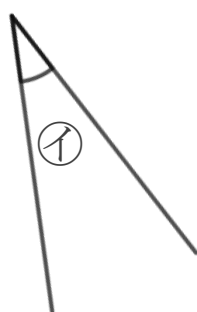
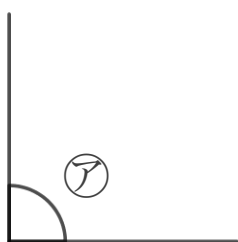
名まえ _____

1 次の角の大きさをくらべて、小さいじゅんに書きましょう。



答え： → → → →

2 次の角を見つけて、ア～エで答えましょう。



① いちばん大きい角

答え： _____

② いちばん小さい角

答え： _____





三角形と角 10

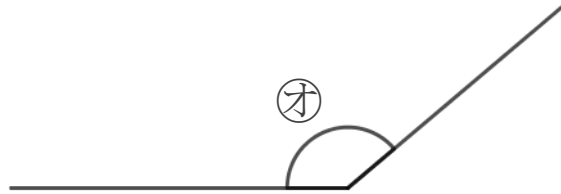
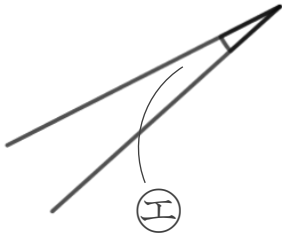
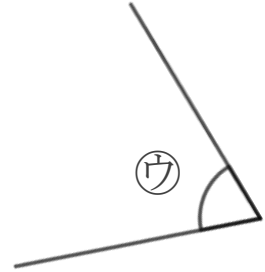
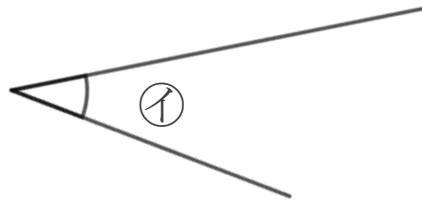
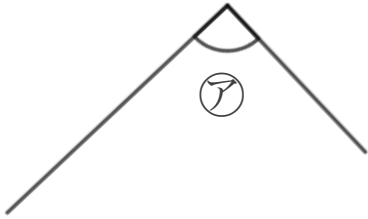
● 角を大きい
じゅんにならべる

13

日にち： 月 日

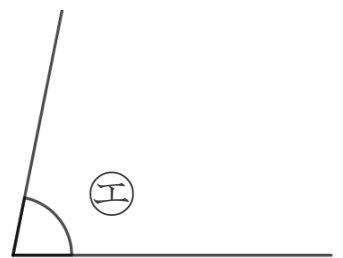
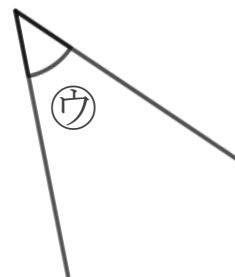
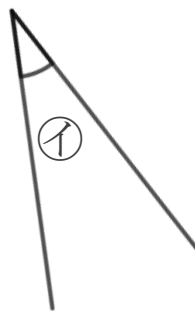
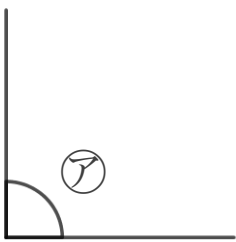
名まえ _____

1 次の角の大きさをくらべて、小さいじゅんに書きましょう。



答え： **エ** → **イ** → **ウ** → **ア** → **オ**

2 次の角を見つけて、**ア**～**エ**で答えましょう。



① いちばん大きい角

答え： **ア**

② いちばん小さい角

答え： **イ**

