



長いものの長さの はかり方と表し方 3

● 長さをはかる道具

13

日にち： 月 日

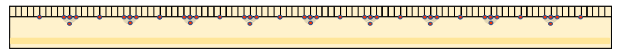
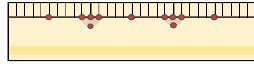
名まえ _____

1 次の長さをはかります。(ア)、(イ)、(ウ) のどれを使いますか。

(ア) まきじゃく

(イ) 30cmものさし

(ウ) 1mものさし



① ドラムかんのまわりの長さ

答え ()

② ろう下の長さ

答え ()

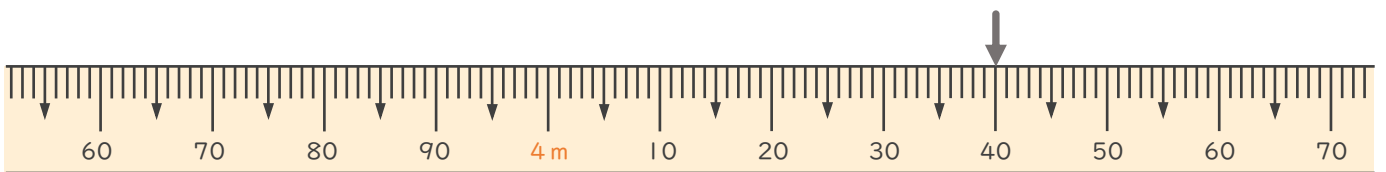
③ つくえの横の長さ

答え ()

④ ボールペンの長さ

答え ()

2 次のまきじゃくで、↓のめもりが表している長さを読み取りましよう。



答え ()



長いものの長さの はかり方と表し方 3

● 長さをはかる道具

13

日にち： 月 日

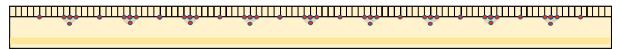
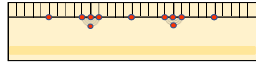
名まえ _____

1 次の長さをはかります。(ア)、(イ)、(ウ) のどれを使いますか。

(ア) まきじゃく

(イ) 30cmものさし

(ウ) 1mものさし



① ドラムかんのまわりの長さ

答え ((ア))

② ろう下の長さ

答え ((ア))

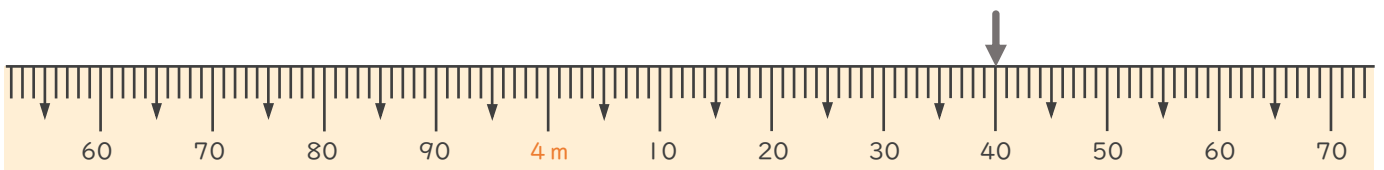
③ つくえの横の長さ

答え ((ウ))

④ ボールペンの長さ

答え ((イ))

2 次のまきじゃくで、↓のめもりが表している長さを読み取りましよう。



答え (4m40cm)

