





分数 8

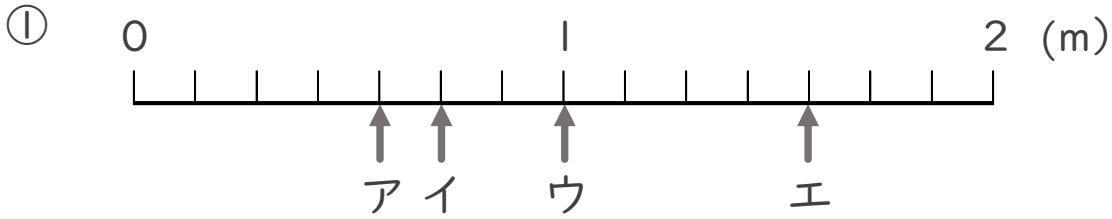
1より大きい分数を  
数直線に表す



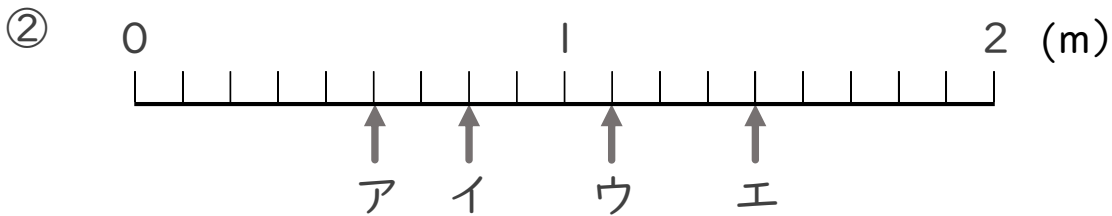
日にち： 月 日

名まえ \_\_\_\_\_

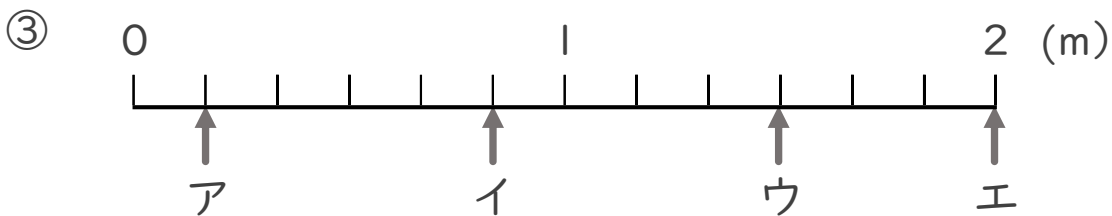
ア～エのめもりが表す長さは、それぞれ何mですか。



答え ア  $\frac{4}{7}$  m イ  $\frac{5}{7}$  m ウ 1 m エ  $\frac{11}{7}$  m



答え ア  $\frac{5}{9}$  m イ  $\frac{7}{9}$  m ウ  $\frac{10}{9}$  m エ  $\frac{13}{9}$  m



答え ア  $\frac{1}{6}$  m イ  $\frac{5}{6}$  m ウ  $\frac{9}{6}$  m エ 2 m