



分数 8

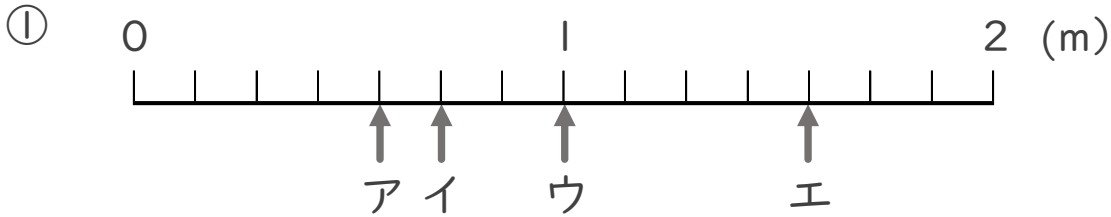
1より大きい分数を
数直線に表す



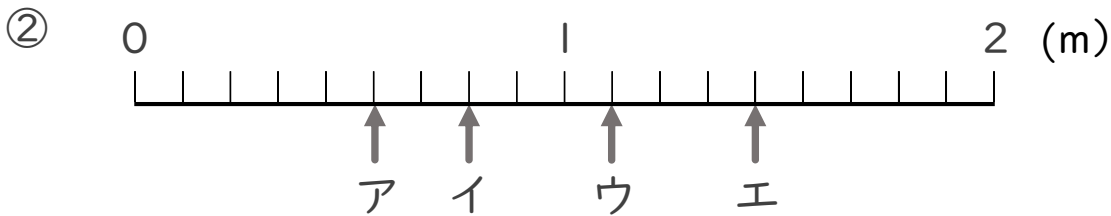
日にち： 月 日

名まえ _____

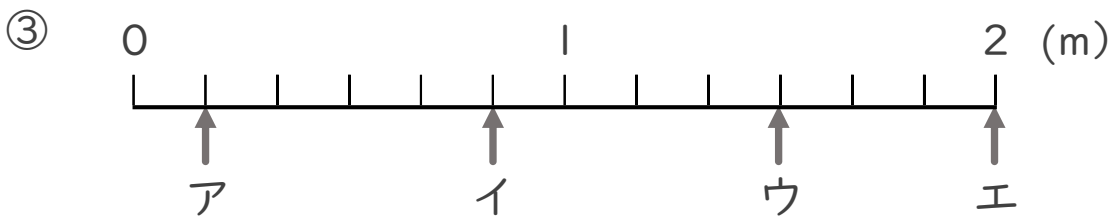
ア～エのめもりが表す長さは、それぞれ何mですか。



答え ア $\frac{4}{7}$ m イ $\frac{5}{7}$ m ウ 1 m エ $\frac{11}{7}$ m



答え ア $\frac{5}{9}$ m イ $\frac{7}{9}$ m ウ $\frac{10}{9}$ m エ $\frac{13}{9}$ m



答え ア $\frac{1}{6}$ m イ $\frac{5}{6}$ m ウ $\frac{9}{6}$ m エ 2 m