



分数 7

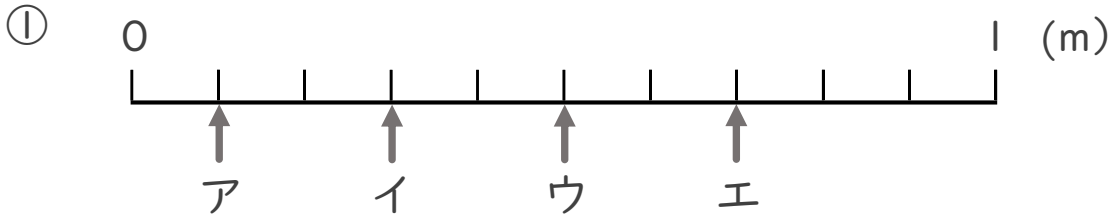
● 1より小さい分数を
数直線に表す



日にち： 月 日

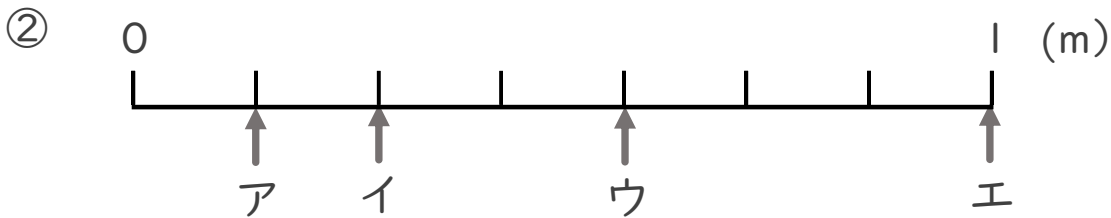
名まえ _____

1 ア～エのめもりが表す長さは、それぞれ何mですか。



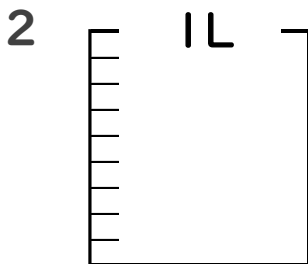
答え ア イ ウ エ

_____ m _____ m _____ m _____ m



答え ア イ ウ エ

_____ m _____ m _____ m _____ m



① $\frac{1}{9}$ Lの5こ分だけ色をぬりましょう。

② 色をぬったところのかさは何Lですか。 _____ L



分数 7

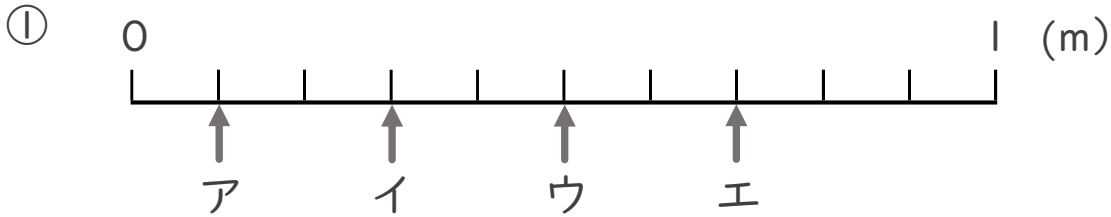
● 1より小さい分数を
数直線に表す



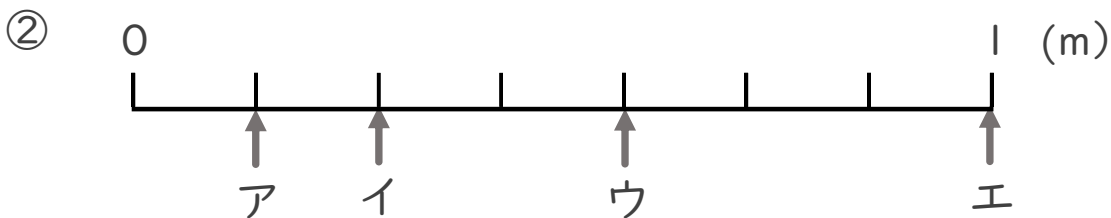
日にち： 月 日

名まえ _____

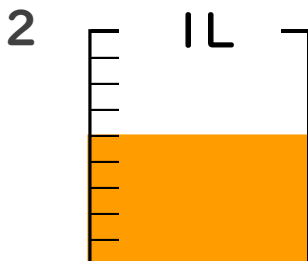
1 ア～エのめもりが表す長さは、それぞれ何mですか。



答え ア $\frac{1}{10}$ m イ $\frac{3}{10}$ m ウ $\frac{5}{10}$ m エ $\frac{7}{10}$ m



答え ア $\frac{1}{7}$ m イ $\frac{2}{7}$ m ウ $\frac{4}{7}$ m エ 1 m



① $\frac{1}{9}$ Lの5こ分だけ色をぬりましょう。

② 色をぬったところのかさは何Lですか。 $\frac{5}{9}$ L