



大きい数のしくみ 9

● 1万の位の数直線

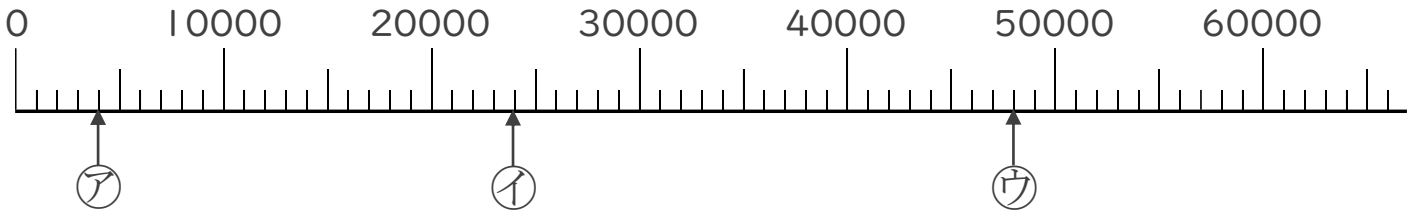


日にち： 月 日

名まえ _____

1 ㉠～㉣のめもりが表している数を〔 〕に書きましょう。

①

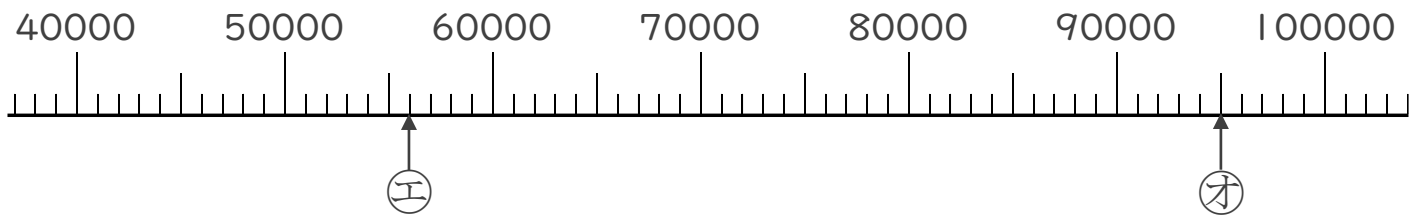


〔 〕

〔 〕

〔 〕

②

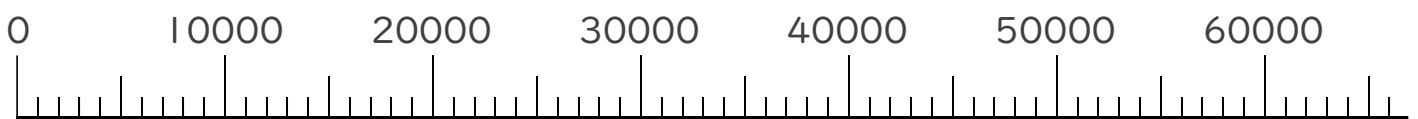


〔 〕

〔 〕

2 次の数を表すめもりに、↑を書きましょう。

- ① 2000 ② 33000 ③ 47000





大きい数のしくみ 9

● 1万の位の数直線

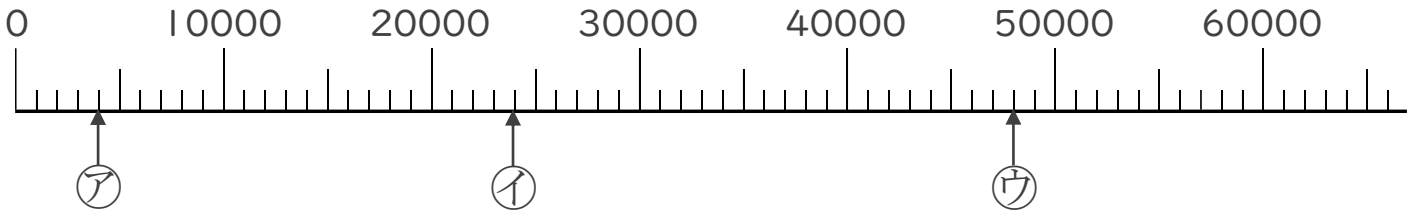


日にち： 月 日

名まえ _____

1 ㉠～㉣のめもりが表している数を〔 〕に書きましょう。

①

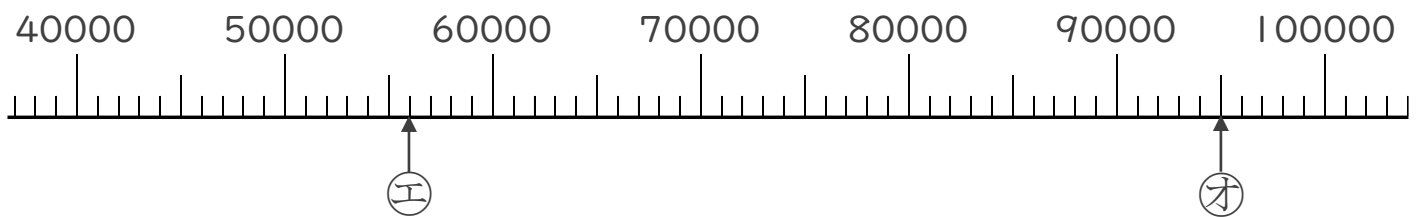


〔 4000 〕

〔 24000 〕

〔 48000 〕

②



〔 56000 〕

〔 95000 〕

2 次の数を表すめもりに、↑を書きましょう。

① 2000 ② 33000 ③ 47000

