



たし算と
ひき算の筆算 16

1000から引くひき算

13

日にち： 月 日


名まえ

・ 次の計算を筆算でしましょう。


$$\begin{array}{r} \textcircled{1} \quad 1000 \\ - \quad 792 \\ \hline \end{array}$$

$$\begin{array}{r} \textcircled{2} \quad 1000 \\ - \quad 825 \\ \hline \end{array}$$


$$\textcircled{3} \quad 1000 - 119$$




$$\textcircled{4} \quad 607 - 78$$



$$\textcircled{5} \quad 705 - 8$$



$$\textcircled{6} \quad 1000 - 182$$





たし算と
ひき算の筆算 16

1000 から引くひき算

13

日にち： 月 日

名まえ

・ 次の計算を筆算でしましょう。

$$\begin{array}{r} 99 \\ 0\cancel{10}\cancel{10}10 \\ \textcircled{1} \quad \cancel{1}\cancel{0}\cancel{0}0 \\ - 792 \\ \hline 208 \end{array}$$

$$\begin{array}{r} 99 \\ 0\cancel{10}\cancel{10}10 \\ \textcircled{2} \quad \cancel{1}\cancel{0}\cancel{0}0 \\ - 825 \\ \hline 175 \end{array}$$

③ 1000 - 119

		9	9	
	0	10	10	10
	1	0	0	0
-		1	1	9
		8	8	1

④ 607 - 78

		9	
	5	10	10
	6	0	7
-		7	8
	5	2	9

⑤ 705 - 8

		9	
	6	10	10
	7	0	5
-			8
	6	9	7

⑥ 1000 - 182

		9	9	
	0	10	10	10
	1	0	0	0
-		1	8	2
		8	1	8