



たし算と
ひき算の筆算 3

● 3けたのたし算
(十の位くり上がり)

13

日にち： 月 日


名まえ

・ 次の計算を筆算でしましょう。


$$\begin{array}{r} \textcircled{1} \quad 307 \\ + 414 \\ \hline \end{array}$$

$$\begin{array}{r} \textcircled{2} \quad 522 \\ + 381 \\ \hline \end{array}$$


$$\textcircled{3} \quad 465 + 351$$




$$\textcircled{4} \quad 346 + 114$$



$$\textcircled{5} \quad 182 + 142$$



$$\textcircled{6} \quad 219 + 419$$





たし算と
ひき算の筆算 3

● 3けたのたし算
(十の位くり上がり)

13

日にち： 月 日

名まえ _____

・ 次の計算を筆算でしましょう。

$$\begin{array}{r} \text{①} \quad \quad \quad | \\ \quad 3 \ 0 \ 7 \\ + \quad 4 \ 1 \ 4 \\ \hline \quad 7 \ 2 \ 1 \end{array}$$

$$\begin{array}{r} \text{②} \quad \quad \quad | \\ \quad 5 \ 2 \ 2 \\ + \quad 3 \ 8 \ 1 \\ \hline \quad 9 \ 0 \ 3 \end{array}$$

③ $465 + 351$

	4	6	5
+	3	5	1
<hr/>			
	8	1	6

④ $346 + 114$

	3	4	6
+	1	1	4
<hr/>			
	4	6	0

⑤ $182 + 142$

	1	8	2
+	1	4	2
<hr/>			
	3	2	4

⑥ $219 + 419$

	2	1	9
+	4	1	9
<hr/>			
	6	3	8