



たし算と
ひき算の筆算 11

● 3けたのひき算
(くり下がりがりあり)

13

日にち： 月 日

名まえ _____



・ 次の計算を筆算でしましょう。

$$\begin{array}{r} \textcircled{1} \quad 968 \\ - 303 \\ \hline \end{array}$$

$$\begin{array}{r} \textcircled{2} \quad 682 \\ - 143 \\ \hline \end{array}$$


$$\textcircled{3} \quad 413 - 173$$

$$\textcircled{4} \quad 360 - 206$$



$$\textcircled{5} \quad 654 - 181$$

$$\textcircled{6} \quad 871 - 511$$





たし算と
ひき算の筆算 ②

◎ 3けたのひき算
(くり下がりがり)

13

日にち： 月 日

名まえ _____

・ 次の計算を筆算でしましょう。

$$\begin{array}{r} \textcircled{1} \quad 968 \\ - 303 \\ \hline 665 \end{array}$$

$$\begin{array}{r} \textcircled{2} \quad 6\overset{7}{\cancel{8}}2 \\ - 143 \\ \hline 539 \end{array}$$

$$\textcircled{3} \quad 413 - 173$$

	³ 4	¹⁰ 1	3
-	1	7	3
<hr/>			
	2	4	0

$$\textcircled{4} \quad 360 - 206$$

		⁵ 6	¹⁰ 0
-	2	0	6
<hr/>			
	1	5	4

$$\textcircled{5} \quad 654 - 181$$

	⁵ 6	¹⁰ 5	4
-	1	8	1
<hr/>			
	4	7	3

$$\textcircled{6} \quad 871 - 511$$

	8	7	1
-	5	1	1
<hr/>			
	3	6	0

