



たし算と  
ひき算の筆算 15

● 3けた-2けた  
(十の位が0)

13

日にち： 月 日

名まえ



・次の計算を筆算でしましょう。

$$\begin{array}{r} \textcircled{1} \quad 304 \\ - \quad 85 \\ \hline \end{array}$$

$$\begin{array}{r} \textcircled{2} \quad 405 \\ - \quad \quad 7 \\ \hline \end{array}$$


$$\textcircled{3} \quad 602 - 199$$

$$\textcircled{4} \quad 904 - 8$$



$$\textcircled{5} \quad 402 - 37$$

$$\textcircled{6} \quad 703 - 246$$





たし算と  
ひき算の筆算 15

● 3けた - 2けた  
(十の位が0)

13

日にち： 月 日

名まえ \_\_\_\_\_

・ 次の計算を筆算でしましょう。

①

$$\begin{array}{r} \phantom{0}9 \\ 2 \cancel{0} 10 \\ \cancel{3} \cancel{0} 4 \\ - \phantom{0}8 5 \\ \hline 2 1 9 \end{array}$$

②

$$\begin{array}{r} \phantom{0}9 \\ 3 \cancel{0} 10 \\ \cancel{4} \cancel{0} 5 \\ - \phantom{0} \phantom{0} 7 \\ \hline 3 9 8 \end{array}$$

③ 602 - 199

	$\phantom{0}9$		
	5 $\cancel{0}$ 10		
	$\cancel{6}$ $\cancel{0}$ 2		
-	1 9 9		
	4 0 3		

④ 904 - 8

	$\phantom{0}9$		
	8 $\cancel{0}$ 10		
	$\cancel{9}$ $\cancel{0}$ 4		
-			8
	8 9 6		

⑤ 402 - 37

	$\phantom{0}9$		
	3 $\cancel{0}$ 10		
	$\cancel{4}$ $\cancel{0}$ 2		
-		3 7	
	3 6 5		

⑥ 703 - 246

	$\phantom{0}9$		
	6 $\cancel{0}$ 10		
	$\cancel{7}$ $\cancel{0}$ 3		
-	2 4 6		
	4 5 7		