



小数の意味と表し方8

mmをcmになおす



日にち： 月 日

名まえ _____

1 にあてはまる数を書きましょう。

① 6 cm 9 mm = cm

⑤ 6 cm 2 mm = cm

② 7 mm = cm

⑥ 3 cm 2 mm = cm

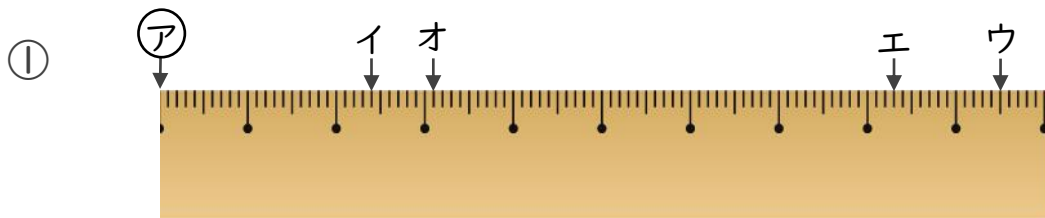
③ 5 mm = cm

⑦ 3 mm = cm

④ 12 cm 1 mm = cm

⑧ 83 cm 3 mm = cm

2 ㉞からイ、ウ、エ、オまでの長さは、それぞれ何cmですか。

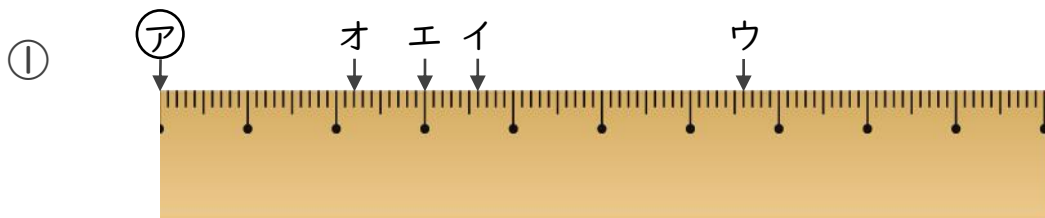


答え ㉞からイ

㉞からウ

㉞からエ

㉞からオ



答え ㉞からイ

㉞からウ

㉞からエ

㉞からオ



小数の意味と表し方8

mmをcmになおす

13

日にち： 月 日

名まえ _____

1 にあてはまる数を書きましょう。

① 6 cm 9 mm = **6.9** cm

⑤ 6 cm 2 mm = **6.2** cm

② 7 mm = **0.7** cm

⑥ 3 cm 2 mm = **3.2** cm

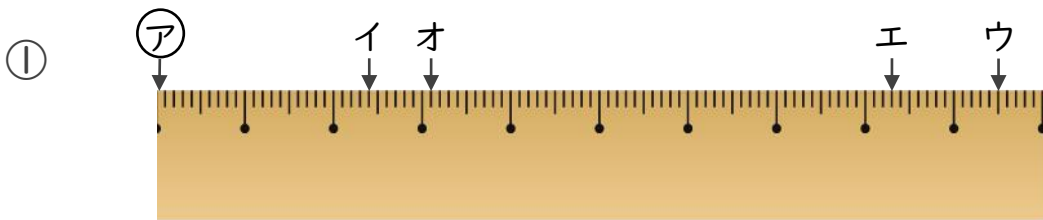
③ 5 mm = **0.5** cm

⑦ 3 mm = **0.3** cm

④ 12 cm 1 mm = **12.1** cm

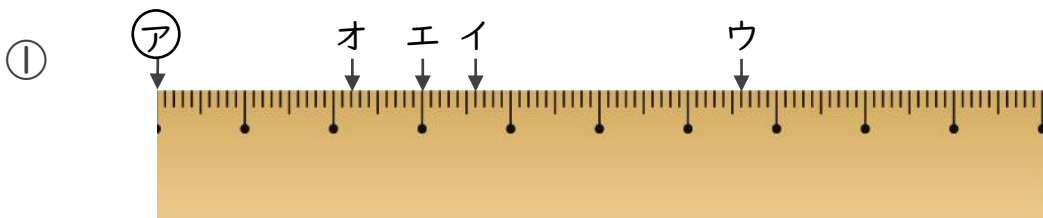
⑧ 83 cm 3 mm = **83.3** cm

2 ㉞からイ、ウ、エ、オまでの長さは、それぞれ何cmですか。



答え ㉞からイ **2.4** cm ㉞からウ **9.5** cm

㉞からエ **8.3** cm ㉞からオ **3.1** cm



答え ㉞からイ **3.6** cm ㉞からウ **6.6** cm

㉞からエ **3** cm ㉞からオ **2.2** cm