



長いものの長さの
はかり方と表し方 4

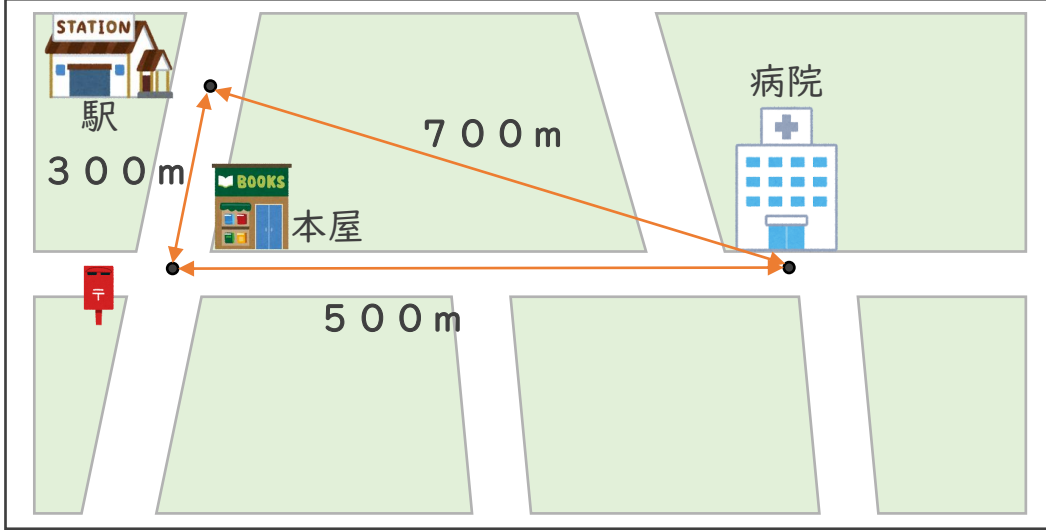
◎ きよりと道のり (メートル)

14

日にち： 月 日

名まえ _____

1 下の絵地図を見て、次の長さをもとめましょう。



① 病院から駅までのきよりは、何mですか。

答え ()

② 病院から駅までの道のりは、何mですか。

しき
式：

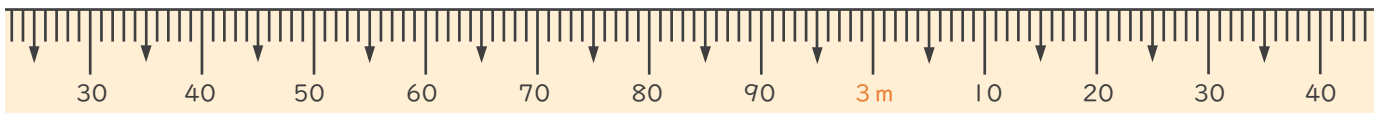
答え ()

2 次のまきじゃくで、①～③の長さを表すめもりに↓をかきましょう。

① 2m41cm

② 2m80cm

③ 3m9cm





長いものの長さの はかり方と表し方 4

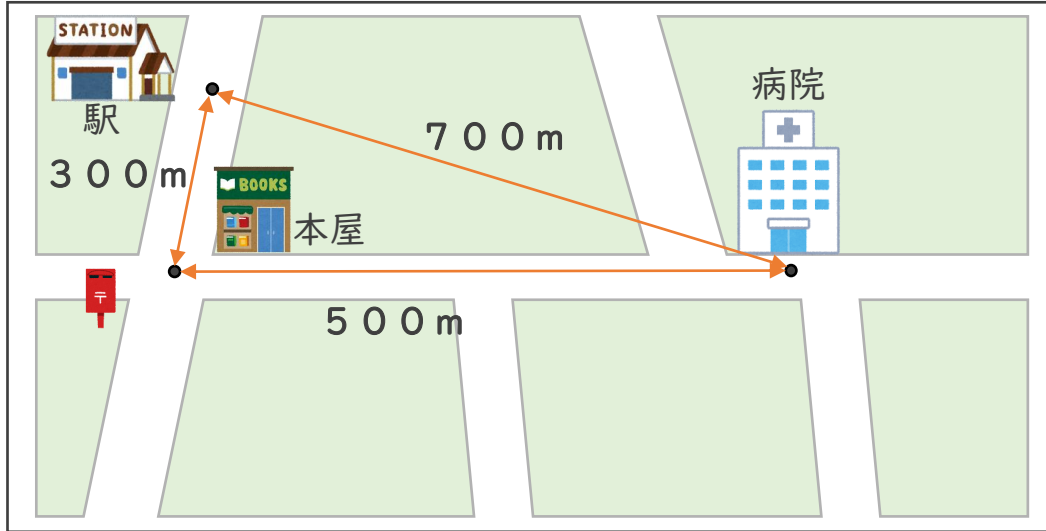
● きよりと道のり (メートル)

14

日にち： 月 日

名まえ _____

1 下の絵地図を見て、次の長さをもとめましょう。



① 病院から駅までのきよりは、何mですか。

答え (700m)

② 病院から駅までの道のりは、何mですか。

式： $500\text{m} + 300\text{m} = 800\text{m}$

答え (800m)

2 次のまきじゃくで、①～③の長さを表すめもりに ↓ をかきましょう。

① 2m 41cm

② 2m 80cm

③ 3m 9cm

