



小数のたし算とひき算 12

たし算ひき算の筆算まとめ



日にち： 月 日

名まえ

・ 次の計算をしましょう。

①
$$\begin{array}{r} 3.6 \\ + 8.9 \\ \hline \end{array}$$

②
$$\begin{array}{r} 6.3 \\ - 2.7 \\ \hline \end{array}$$

③
$$\begin{array}{r} 7 \\ - 4.9 \\ \hline \end{array}$$

④
$$\begin{array}{r} 5 \\ + 7.2 \\ \hline \end{array}$$




⑤
$$\begin{array}{r} 9.4 \\ - 7.8 \\ \hline \end{array}$$

⑥
$$\begin{array}{r} 1.7 \\ + 8.3 \\ \hline \end{array}$$

⑦ $8.9 - 8$

⑧ $0.6 + 7.5$



⑨ $5.2 - 4.9$



⑩ $2.3 + 8$

⑪ $9.2 - 3.1$

⑫ $0.2 + 9.9$





小数のたし算とひき算 12

たし算ひき算の筆算まとめ

14

日にち： 月 日

名まえ _____

・ 次の計算をしましょう。

①

	3	.	6
+	8	.	9
<hr/>			
1	2	.	5

②

	6	.	3
-	2	.	7
<hr/>			
	3	.	6

③

	7	.	0
-	4	.	9
<hr/>			
	2	.	1

④

	5	.	0
+	7	.	2
<hr/>			
1	2	.	2

⑤

	9	.	4
-	7	.	8
<hr/>			
	1	.	6

⑥

	1	.	7
+	8	.	3
<hr/>			
1	0	.	0

⑦ $8.9 - 8$

	8	.	9
-	8	.	0
<hr/>			
	0	.	9

⑧ $0.6 + 7.5$

	0	.	6
+	7	.	5
<hr/>			
	8	.	1

⑨ $5.2 - 4.9$

	5	.	2
-	4	.	9
<hr/>			
	0	.	3

⑩ $2.3 + 8$

	2	.	3
+	8	.	0
<hr/>			
1	0	.	3

⑪ $9.2 - 3.1$

	9	.	2
-	3	.	1
<hr/>			
	6	.	1

⑫ $0.2 + 9.9$

	0	.	2
+	9	.	9
<hr/>			
1	0	.	1

