



重さのたんいと
はかりかた 8

● はかりの読み取り練習
(2キログラムまで)

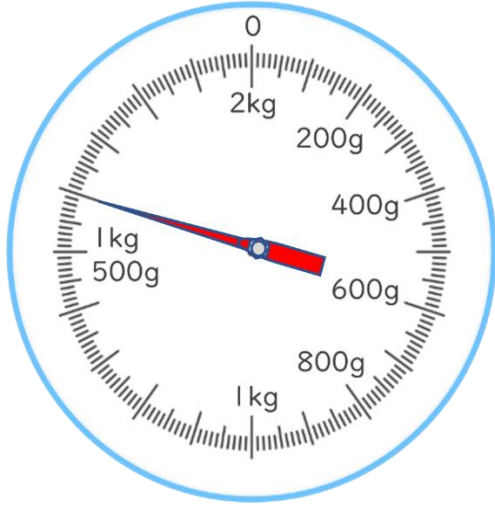
14

日にち： 月 日

名まえ _____

はりのさしている重さを書きましょう。

①



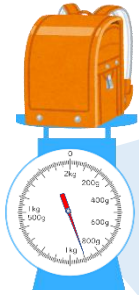
答え： _____

②



答え： _____

2 ランドセルの重さを、調べましょう。



① このはかりでは、何kgまではかれますか。

答え： _____

② いちばん小さい1めもりは、何gを表していますか。

答え： _____

③ ランドセルの重さは何kg 何gですか。

答え： _____



重さのたんいと はかりかた 8

14

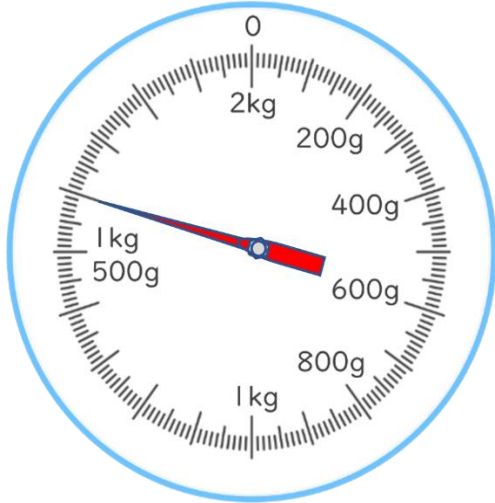
● はかりの読み取り練習
(2キログラムまで)

日にち： 月 日

名まえ _____

はりのさしている重さを書きましょう。

①



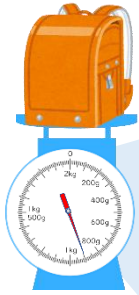
答え： 1 kg 600 g

②



答え： 1 kg 200 g

2 ランドセルの重さを、調べましょう。



① このはかりでは、何kgまではかれますか。

答え： 2 kg

② いちばん小さい1めもりは、何gを表していますか。

答え： 10 g

③ ランドセルの重さは何kg 何gですか。

答え： 900 g

