





# 長いものの長さの はかり方と表し方 2

まきじゃくへの書きこみ

14

日にち： 月 日

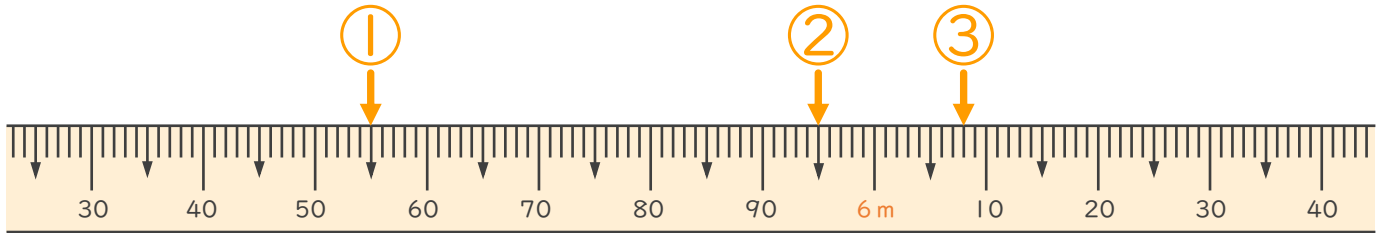
名まえ \_\_\_\_\_

1 次のまきじゃくで、①～③の長さを表すメモリに ↓ をかきましょう。

① 5 m 55 cm

② 5 m 95 cm

③ 6 m 8 cm

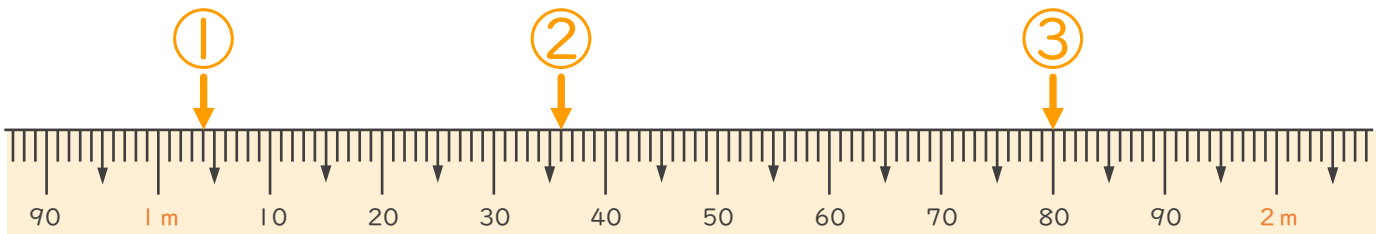


2 次のまきじゃくで、①～③の長さを表すメモリに ↓ をかきましょう。

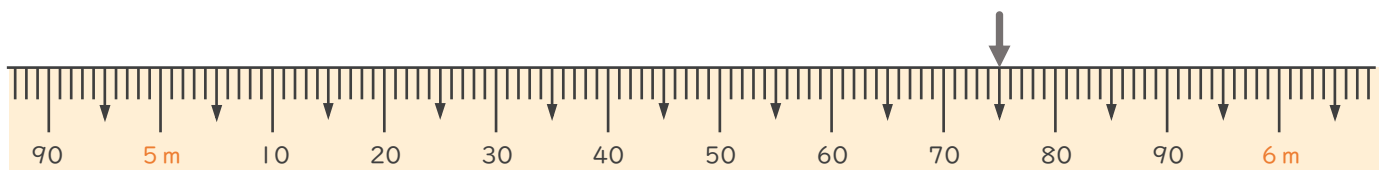
① 1 m 4 cm

② 1 m 36 cm

③ 1 m 80 cm



3 次のまきじゃくで、↓ のメモリが表している長さを読み取りましょう。



答え ( 5 m 75 cm )

