



# 円と球 7

コンパスで長さ比べ

14

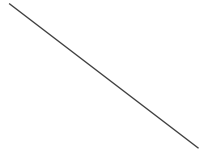
日にち：      月      日

名まえ \_\_\_\_\_

1 次の直線の長さをくらべ、長い順に答えましょう。

①

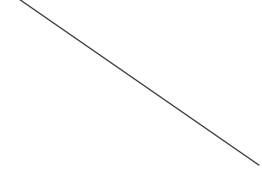
ア



イ



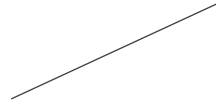
ウ



答え：      →      →  
\_\_\_\_\_

②

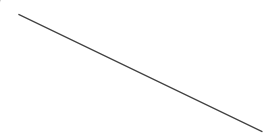
ア



イ

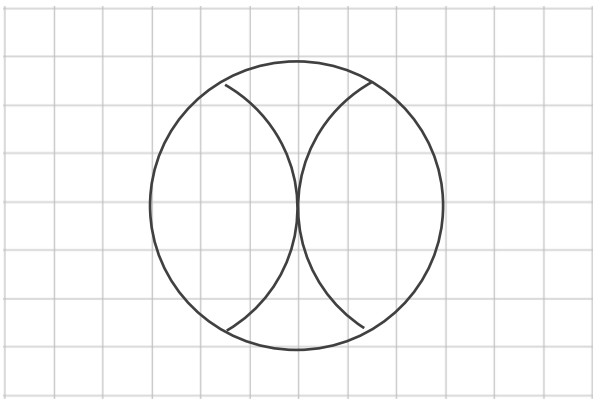


ウ



答え：      →      →  
\_\_\_\_\_

2 コンパスを使って、次のもようをかきましょう。





# 円と球 7

コンパスで長さ比べ

14

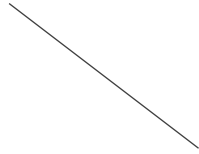
日にち：          月          日

名まえ \_\_\_\_\_

1 次の直線の長さをくらべ、長い順に答えましょう。

①

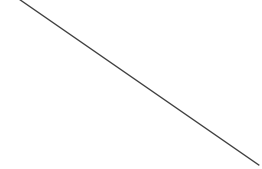
ア



イ



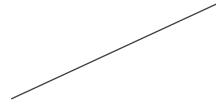
ウ



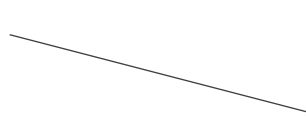
答え： **ウ** → **ア** → **イ**

②

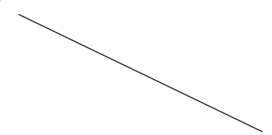
ア



イ



ウ



答え： **イ** → **ウ** → **ア**

2 コンパスを使って、次のもようをかきましょう。

