



円と球 7

コンパスで長さ比べ



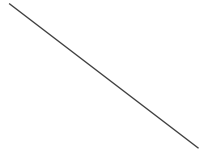
日にち： 月 日

名まえ _____

1 次の直線の長さをくらべ、長いじゆんに答えましょう。

①

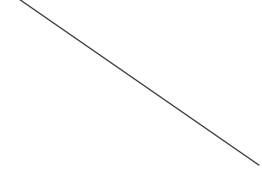
ア



イ



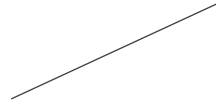
ウ



答え： → →

②

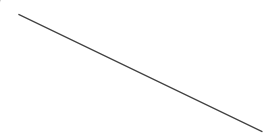
ア



イ

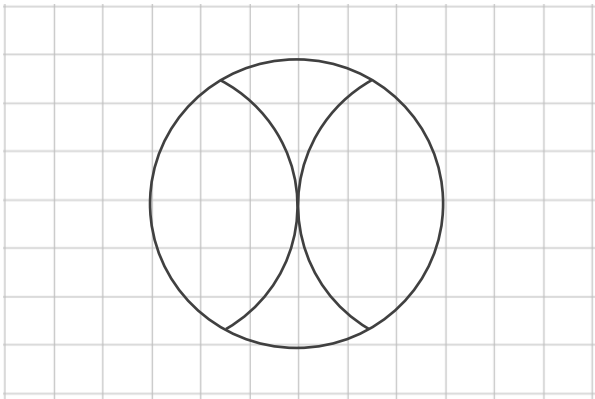


ウ



答え： → →

2 コンパスを使って、次のもようをかきましょう。





円と球 7

コンパスで長さ比べ

14

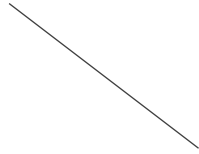
日にち： 月 日

名まえ _____

1 次の直線の長さをくらべ、長いじゆんに答えましょう。

①

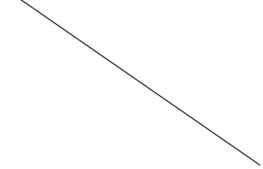
ア



イ



ウ



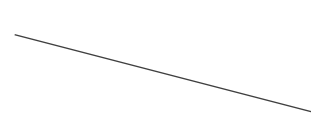
答え： **ウ** → **ア** → **イ**

②

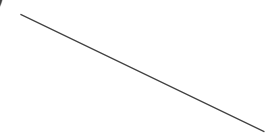
ア



イ



ウ



答え： **イ** → **ウ** → **ア**

2 コンパスを使って、次のもようをかきましょう。

