



三角形と角 3


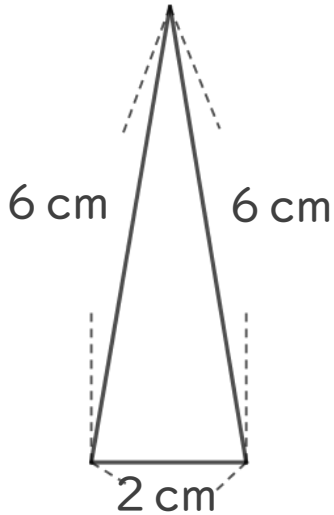
● コンパスを使った
二等辺三角形のかき方



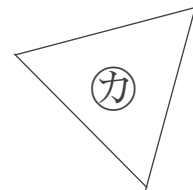
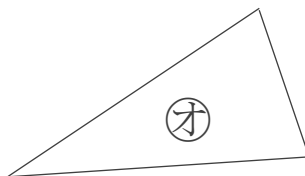
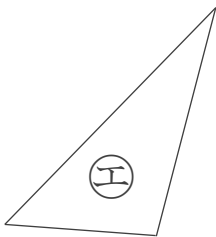
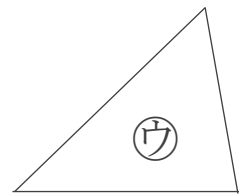
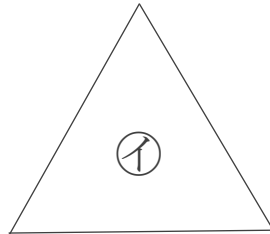
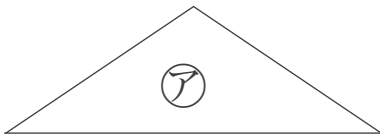
日にち： 月 日

名まえ _____

1 次の二等辺三角形をかきましょう。



2 下の図から、正三角形と二等辺三角形をえらびましょう。



答え： 正三角形…

二等辺三角形…



三角形と角 3

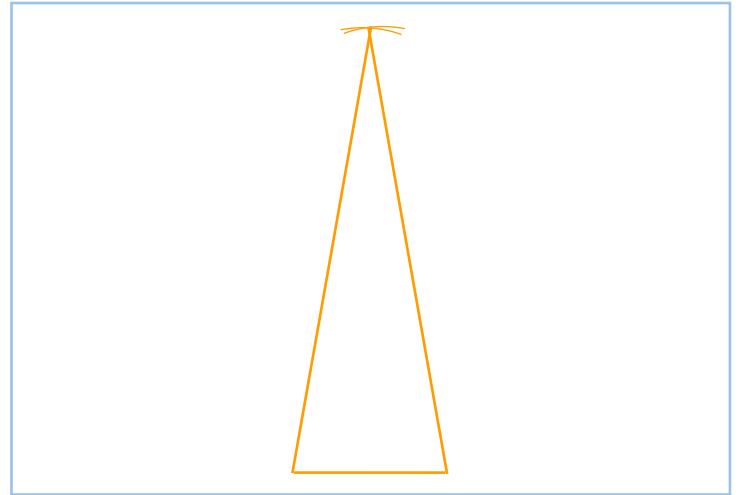
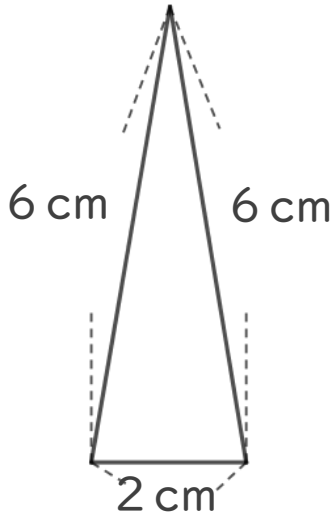
● コンパスを使った
二等辺三角形のかき方



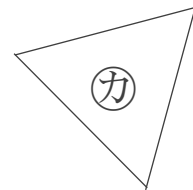
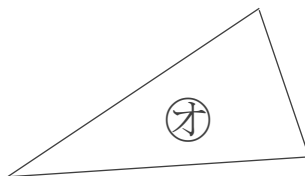
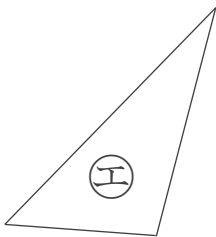
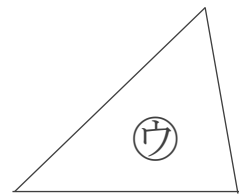
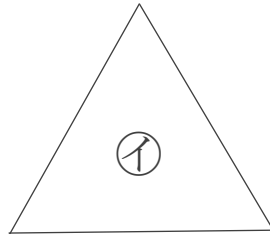
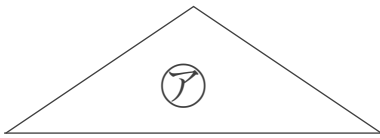
日にち： 月 日

名まえ _____

1 次の二等辺三角形をかきましょう。



2 下の図から、正三角形と二等辺三角形をえらびましょう。



答え： 正三角形… **イ, カ**

二等辺三角形… **ア, オ**