



三角形と角 8

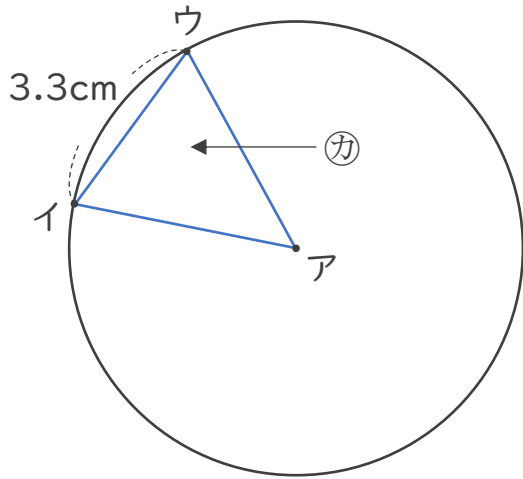
● 円と三角形の関係



日にち： 月 日

名まえ _____

1 アの点を中心とした半径4cmの円のまわりに2つの点を決めて、次の図のような三角形をかきました。



① アウの辺の長さは何cmですか。

答え： _____



② ①は何という三角形ですか。

答え： _____

2 円の中に次の三角形をかきましょう。

① 正三角形

② 二等辺三角形





三角形と角 8

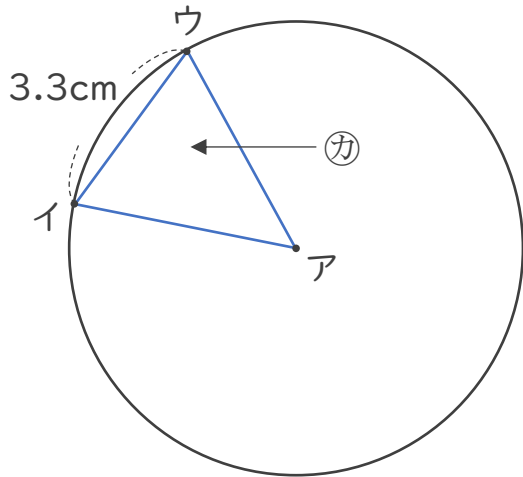
● 円と三角形の関係

14

日にち： 月 日

名まえ _____

1 アの点を中心とした半径4 cmの円のまわりに2つの点を決めて、次の図のような三角形をかきました。



① アウの辺の長さは何cmですか。

答え： **4 cm**

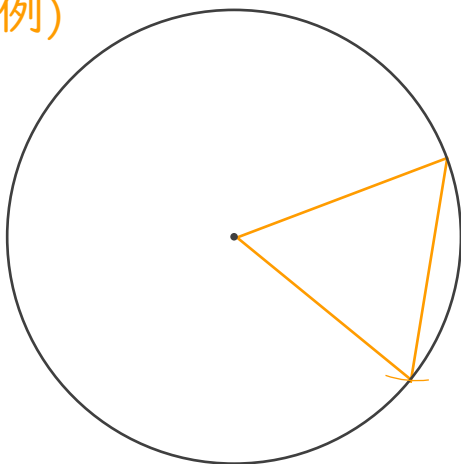
② ①は何という三角形ですか。

答え： **二等辺三角形**

2 円の中に次の三角形をかきましょう。

① 正三角形

(例)



② 二等辺三角形

(例)

