



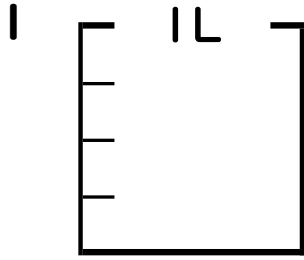
分数 5

● 分数の水のかさの色ぬり



日にち： 月 日

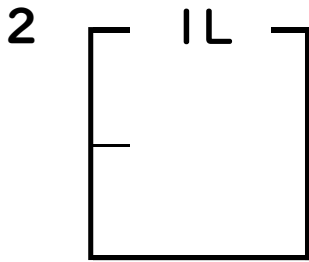
名まえ _____



① $\frac{1}{4}$ Lの 1 分だけ色をぬりましょう。

② 色をぬったところのかさは何Lですか。

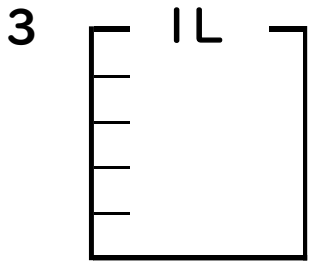
_____ L



① $\frac{1}{2}$ Lの 1 分だけ色をぬりましょう。

② 色をぬったところのかさは何Lですか。

_____ L



① $\frac{1}{5}$ Lの 4 分だけ色をぬりましょう。

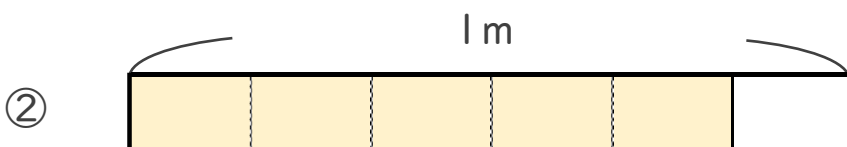
② 色をぬったところのかさは何Lですか。

_____ L

4 色をぬったところの長さは、何mでしょう。



こたえ： _____ m



こたえ： _____ m





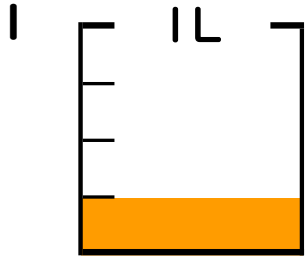
分数 5

● 分数の水のかさの色ぬり



日にち： 月 日

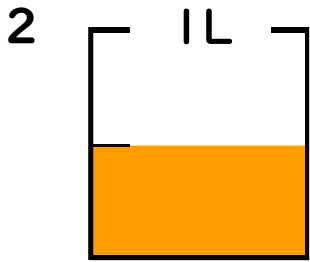
名まえ _____



① $\frac{1}{4}$ Lの 1 分だけ色をぬりましょう。

② 色をぬったところのかさは何Lですか。

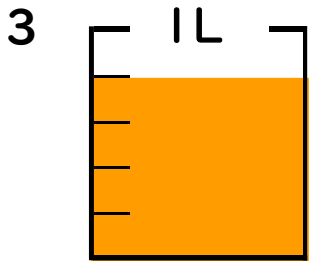
$\frac{1}{4}$ L



① $\frac{1}{2}$ Lの 1 分だけ色をぬりましょう。

② 色をぬったところのかさは何Lですか。

$\frac{1}{2}$ L

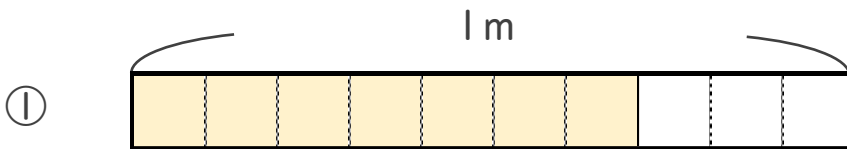


① $\frac{1}{5}$ Lの 4 分だけ色をぬりましょう。

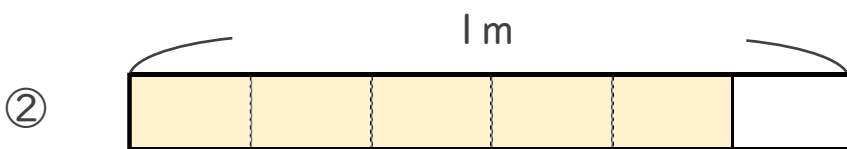
② 色をぬったところのかさは何Lですか。

$\frac{4}{5}$ L

4 色をぬったところの長さは、何mでしょう。



こたえ： $\frac{9}{10}$ m



こたえ： $\frac{5}{6}$ m

