



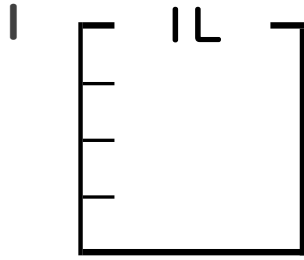
# 分数 5

● 分数の水のかさの色ぬり



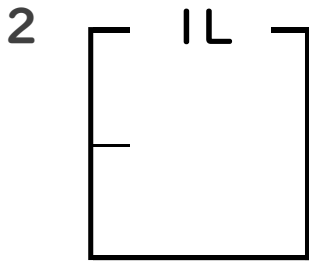
日にち：            月            日

名まえ \_\_\_\_\_



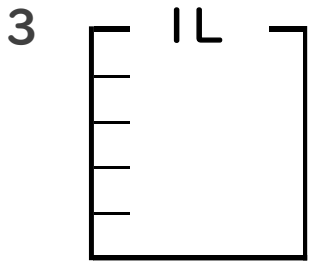
①  $\frac{1}{4}$  Lの 1 分だけ色をぬりましょう。

② 色をぬったところのかさは何Lですか。 \_\_\_\_\_ L



①  $\frac{1}{2}$  Lの 1 分だけ色をぬりましょう。

② 色をぬったところのかさは何Lですか。 \_\_\_\_\_ L



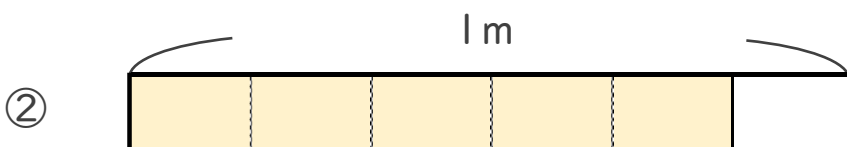
①  $\frac{1}{5}$  Lの 4 分だけ色をぬりましょう。

② 色をぬったところのかさは何Lですか。 \_\_\_\_\_ L

4 色をぬったところの長さは、何mでしょう。



こたえ： \_\_\_\_\_ m



こたえ： \_\_\_\_\_ m



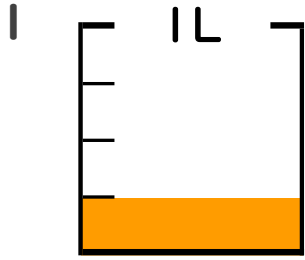
# 分数 5

● 分数の水のかさの色ぬり



日にち：            月            日

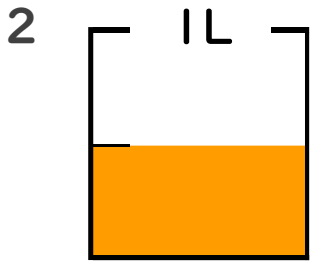
名まえ \_\_\_\_\_



①  $\frac{1}{4}$  Lの 1 分だけ色をぬりましょう。

② 色をぬったところのかさは何Lですか。

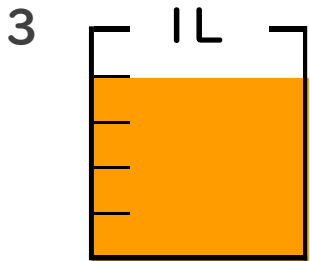
            
 $\frac{1}{4}$  L



①  $\frac{1}{2}$  Lの 1 分だけ色をぬりましょう。

② 色をぬったところのかさは何Lですか。

            
 $\frac{1}{2}$  L



①  $\frac{1}{5}$  Lの 4 分だけ色をぬりましょう。

② 色をぬったところのかさは何Lですか。

            
 $\frac{4}{5}$  L

4 色をぬったところの長さは、何mでしょう。



こたえ：             
 $\frac{7}{10}$  m



こたえ：             
 $\frac{5}{6}$  m

