



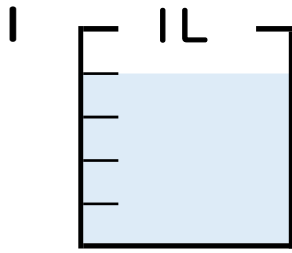
分数 4

● 分数の水のかさの読み取り



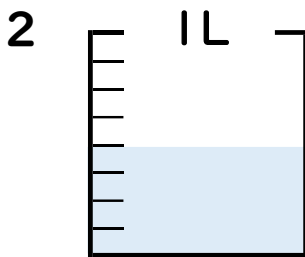
日にち： 月 日

名まえ _____



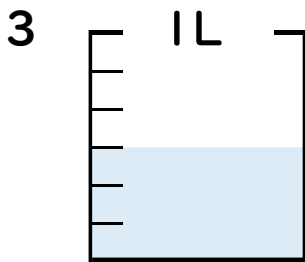
① 図の水のかさは1めもりの何こ分ですか？ 分

② 水のかさは、何^{リットル}Lですか？ L



① 図の水のかさは1めもりの何こ分ですか？ 分

② 水のかさは、何^{リットル}Lですか？ L



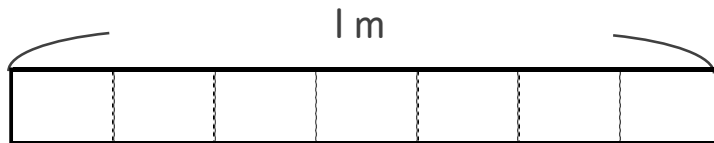
① 図の水のかさは1めもりの何こ分ですか？ 分

② 水のかさは、何^{リットル}Lですか？ L

4 次の長さの分だけ色をぬりましょう。

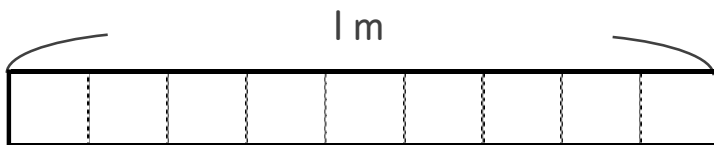
①

$\frac{2}{7}$



②

$\frac{4}{9}$





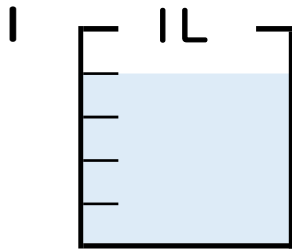
分数 4

● 分数の水のかさの読み取り



日にち： 月 日

名まえ _____

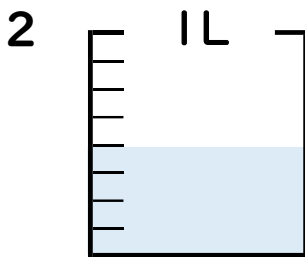


① 図の水のかさは1メモリの何こ分ですか？

4 こ分

② 水のかさは、何^{リットル}Lですか？

$\frac{4}{5}$ L

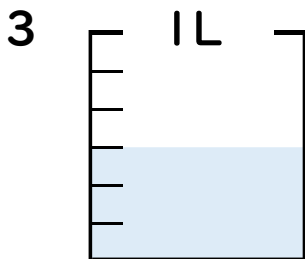


① 図の水のかさは1メモリの何こ分ですか？

4 こ分

② 水のかさは、何^{リットル}Lですか？

$\frac{4}{8}$ L



① 図の水のかさは1メモリの何こ分ですか？

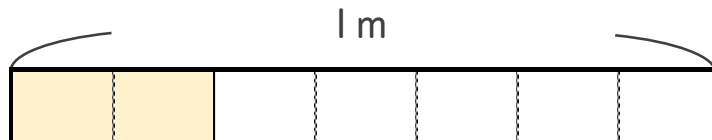
3 こ分

② 水のかさは、何^{リットル}Lですか？

$\frac{3}{6}$ L

4 次の長さの分だけ色をぬりましょう。

① $\frac{2}{7}$



② $\frac{4}{9}$

