



分数 3

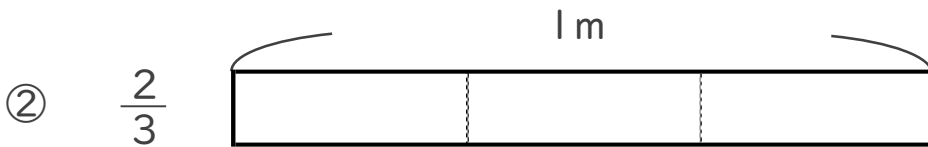
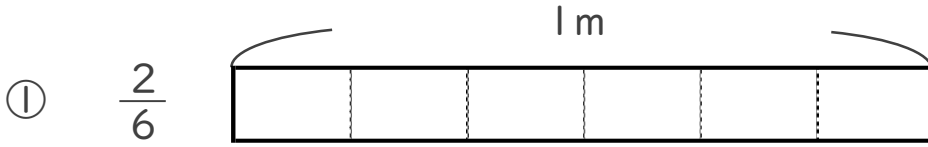
● 分数の長さの色ぬり



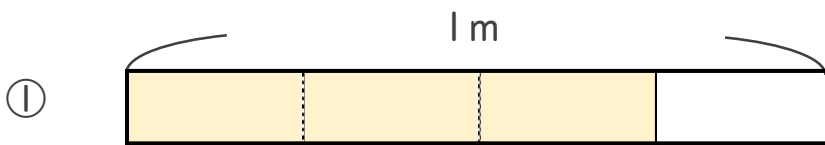
日にち： 月 日

名まえ _____

1 次の長さの分だけ色をぬりましょう。



2 色をぬったところの長さは、何mでしょう。



こたえ： _____ m



こたえ： _____ m



分数 3

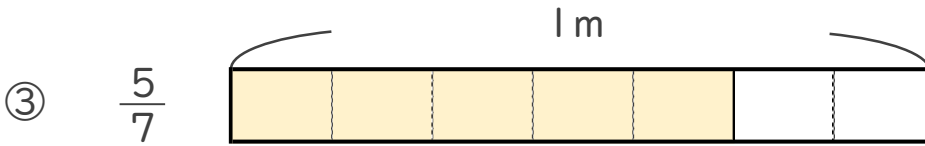
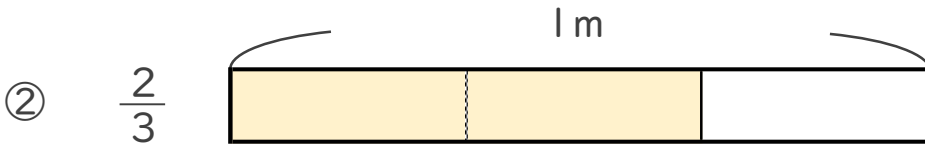
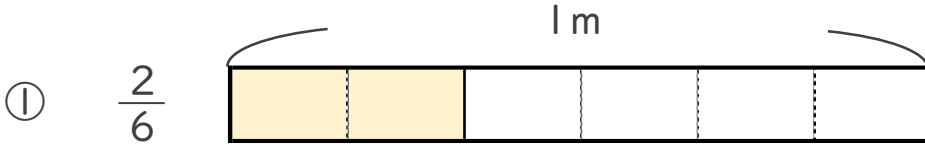
● 分数の長さの色ぬり



日にち： 月 日

名まえ _____

1 次の長さの分だけ色をぬりましょう。



2 色をぬったところの長さは、何mでしょう。



こたえ： $\frac{3}{4}$ m



こたえ： $\frac{3}{7}$ m