



分数 2

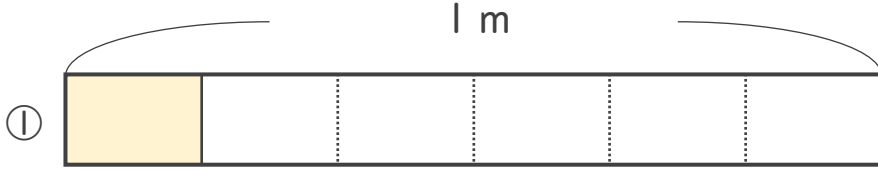
● 分数の長さの読み取り



日にち： 月 日

名まえ _____

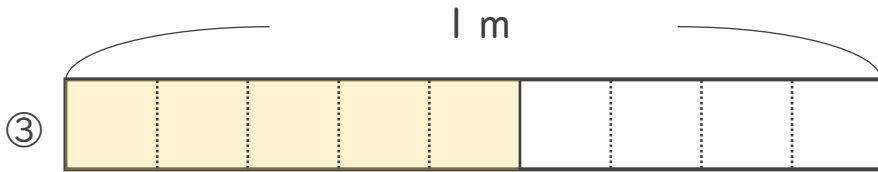
いろ
・色をぬったところのながさは、何mでしょう。
なが
なん




こたえ： _____ m



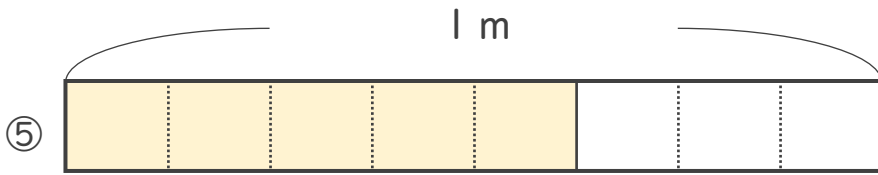
こたえ： _____ m



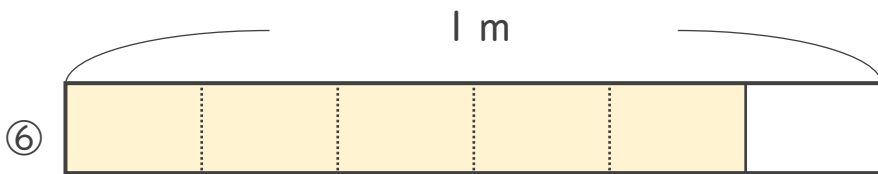
こたえ： _____ m



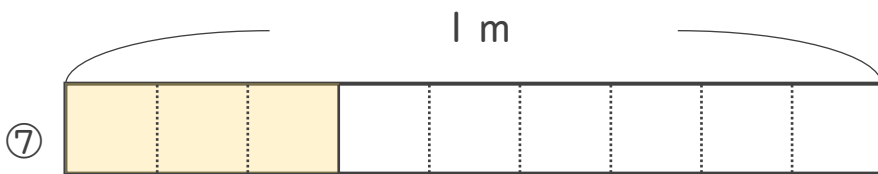
こたえ： _____ m



こたえ： _____ m



こたえ： _____ m



こたえ： _____ m





分数 2

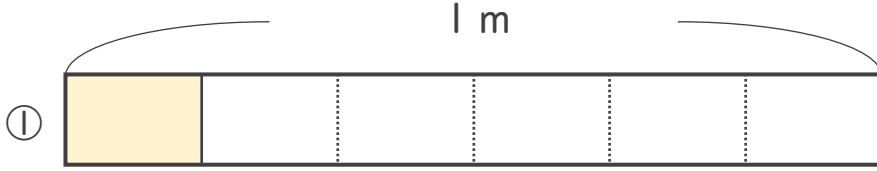
● 分数の長さの読み取り



日にち： 月 日

名まえ _____

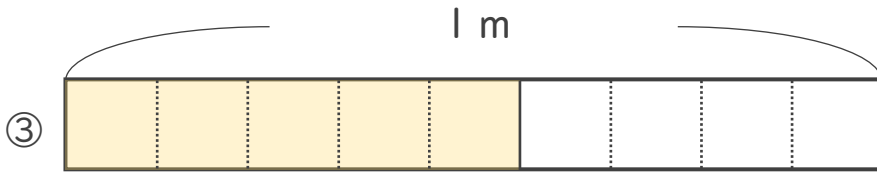
いろ
・色をぬったところのながさは、何mでしょう。
なが なん




こたえ： $\frac{1}{6}$ m



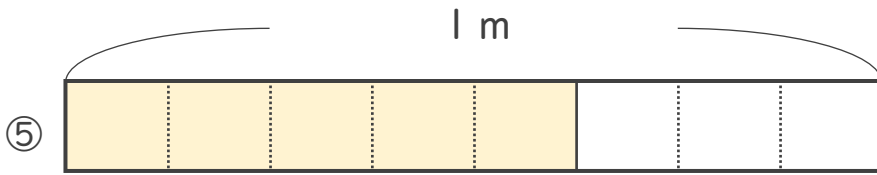
こたえ： $\frac{3}{4}$ m



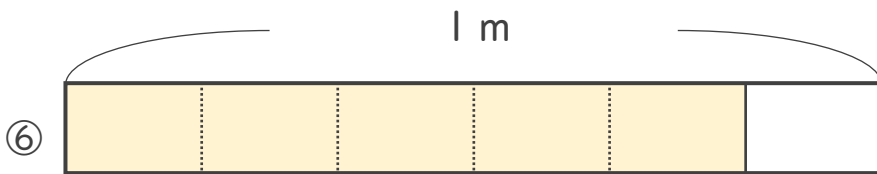
こたえ： $\frac{5}{9}$ m



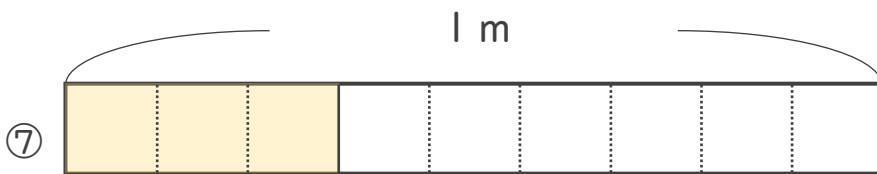
こたえ： $\frac{2}{3}$ m



こたえ： $\frac{5}{8}$ m



こたえ： $\frac{5}{6}$ m



こたえ： $\frac{3}{9}$ m

