



小数の意味と表し方7

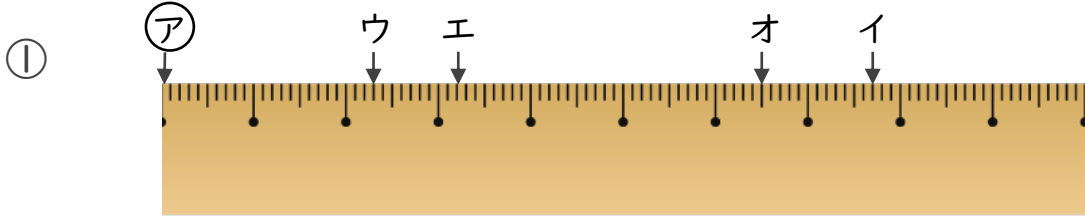
● 小数で表す1cmより短い長さ



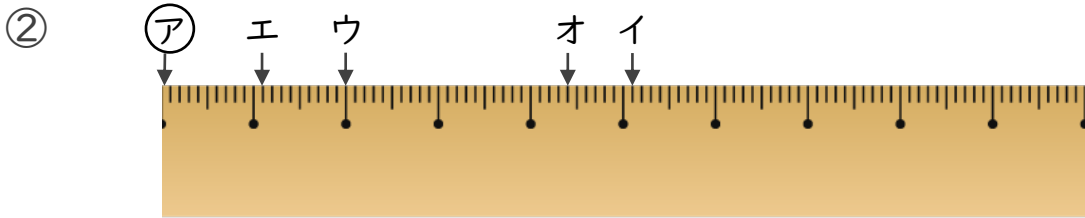
日にち： 月 日

名まえ _____

1 ㊦からイ、ウ、エ、オまでの長さは、それぞれ何cmですか。



- 答え
- ㊦からイ
 - ㊦からウ
 - ㊦からエ
 - ㊦からオ
-



- 答え
- ㊦からイ
 - ㊦からウ
 - ㊦からエ
 - ㊦からオ
-

2 次のかさは何Lでしょうか。小数で答えましょう。

① 0.1Lの3こ分

答え _____

② 3Lと、0.1Lの9こ分

答え _____

③ 4Lと、0.1Lの8こ分

答え _____

④ 0.1Lの2こ分

答え _____





小数の意味と表し方7

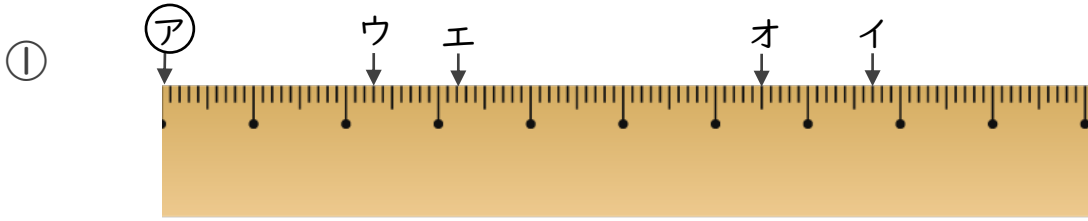
● 小数で表す1cmより短い長さ



日にち： 月 日

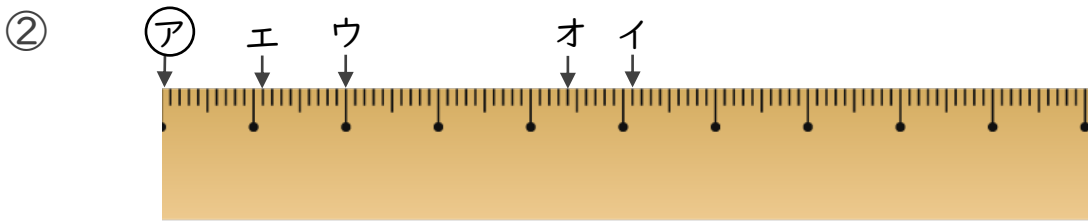
名まえ _____

1 ㉞からイ、ウ、エ、オまでの長さは、それぞれ何cmですか。



答え ㉞からイ **7.7 cm** ㉞からウ **2.3 cm**

 ㉞からエ **3.2 cm** ㉞からオ **6.5 cm**



答え ㉞からイ **5.1 cm** ㉞からウ **2 cm**

 ㉞からエ **1.1 cm** ㉞からオ **4.4 cm**

2 次のかさは何Lでしょうか。小数で答えましょう。

① 0.1Lの3こ分

答え **0.3 L**

② 3Lと、0.1Lの9こ分

答え **3.9 L**

③ 4Lと、0.1Lの8こ分

答え **4.8 L**

④ 0.1Lの2こ分

答え **0.2 L**