



# 小数の意味と表し方 11

● 小数の位置を数直線へ書きこむ



日にち：            月            日

名まえ \_\_\_\_\_

1 次の数を、数直線に ↑ で数を書きましょう。

① 0.7

② 0.9

③ 0.3

④ 2



⑤ 1.5

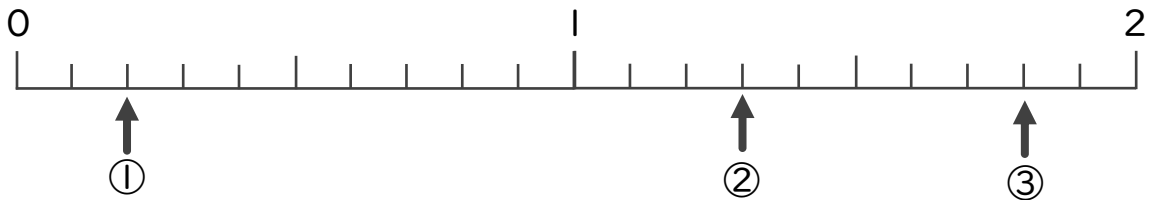
⑥ 0.1

⑦ 1.8

⑧ 0.5



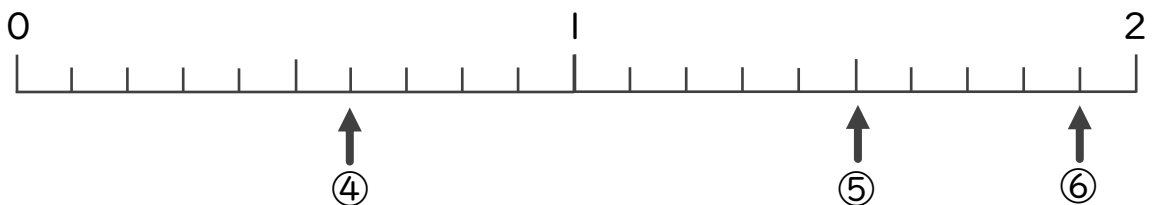
2 下の数直線を見て ↑ のめもりが表す数を書きましょう。



① \_\_\_\_\_

② \_\_\_\_\_

③ \_\_\_\_\_



④ \_\_\_\_\_

⑤ \_\_\_\_\_

⑥ \_\_\_\_\_



# 小数の意味と表し方II

● 小数の位置を数直線へ書きこむ



日にち：            月            日

名まえ \_\_\_\_\_

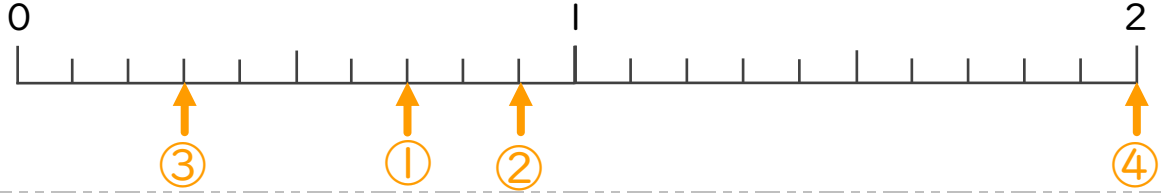
1 次の数を、数直線に ↑ で数を書きましょう。

① 0.7

② 0.9

③ 0.3

④ 2

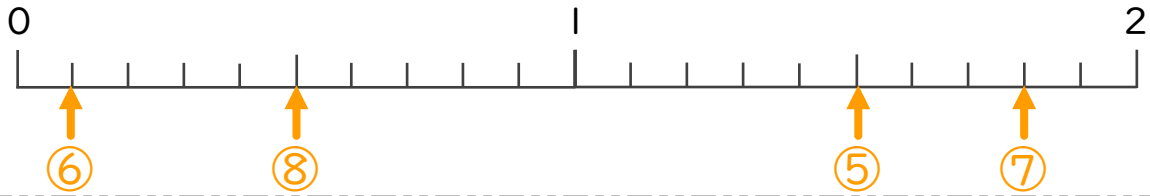


⑤ 1.5

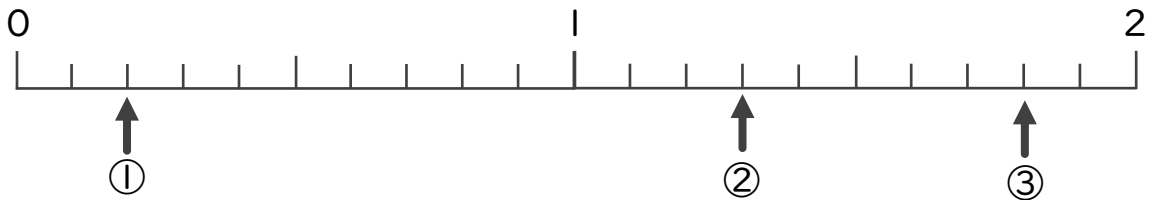
⑥ 0.1

⑦ 1.8

⑧ 0.5



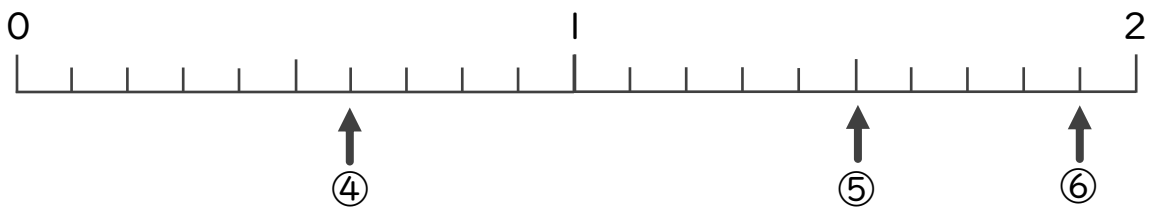
2 下の数直線を見て ↑ のめもりが表す数を書きましょう。



① 0.2

② 1.3

③ 1.8



④ 0.6

⑤ 1.5

⑥ 1.9

