



小数の意味と表し方 11

● 小数の位置を数直線へ書きこむ



日にち： 月 日

名まえ _____

1 次の数を表すめもりに ↑ を書きましょう。

① 0.7

② 0.9

③ 0.3

④ 2



⑤ 1.5

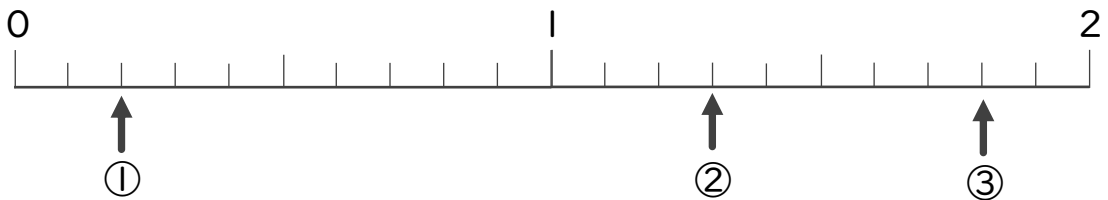
⑥ 0.1

⑦ 1.8

⑧ 0.5



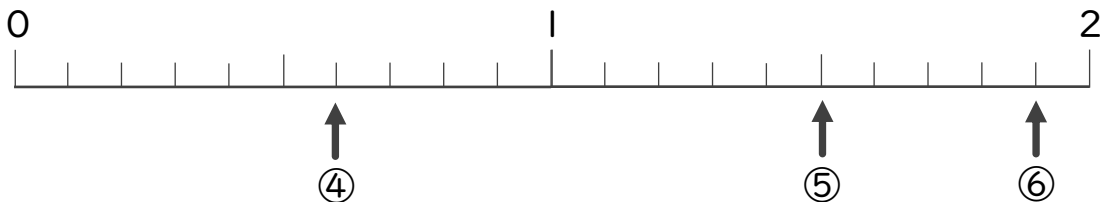
2 下の数直線を見て ↑ のめもりが表す数を書きましょう。



① _____

② _____

③ _____



④ _____

⑤ _____

⑥ _____



小数の意味と表し方 11

● 小数の位置を数直線へ書きこむ

14

日にち： 月 日

名まえ _____

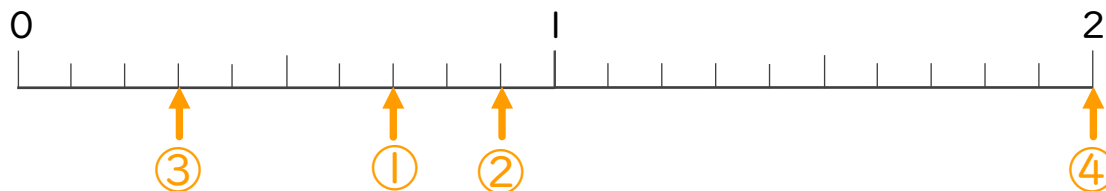
1 次の数を表すめもりに ↑ を書きましょう。

① 0.7

② 0.9

③ 0.3

④ 2

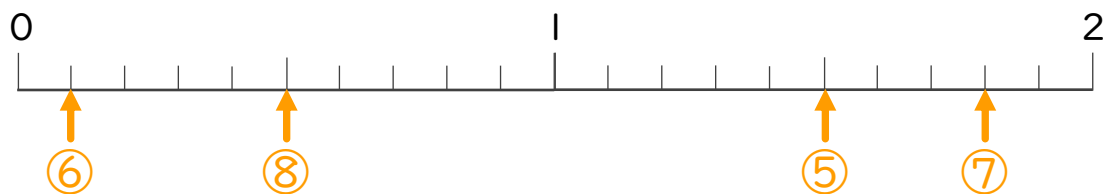


⑤ 1.5

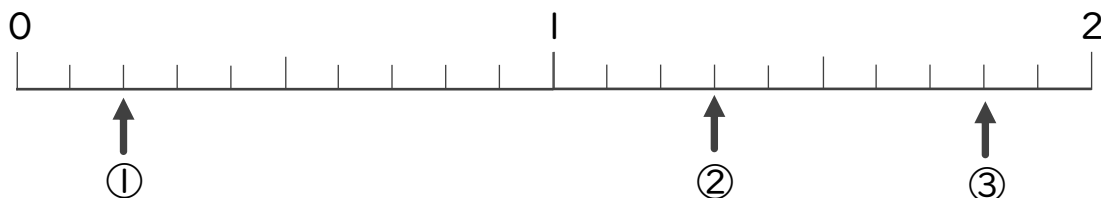
⑥ 0.1

⑦ 1.8

⑧ 0.5



2 下の数直線を見て ↑ のめもりが表す数を書きましょう。



①

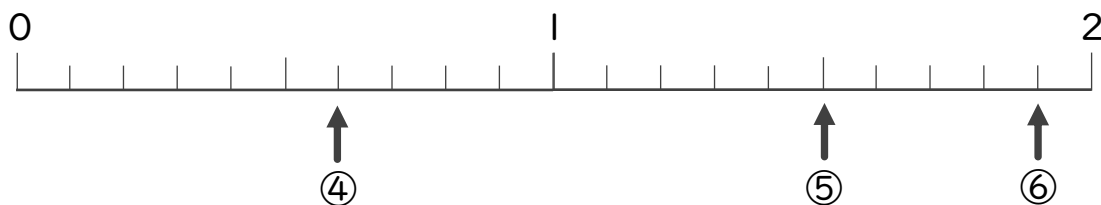
0.2

②

1.3

③

1.8



④

0.6

⑤

1.5

⑥

1.9