



# 小数のたし算とひき算 II

● 差が整数か真小数になる筆算



日にち： 月 日

名まえ \_\_\_\_\_

・ 次の計算をしなさい。

①  $4.3 - 2.3 =$

②  $7.2 - 0.2 =$

③  $2.5 - 1.6 =$

④  $5.3 - 1.2 =$

⑤	7.3
-	6.9
<hr/>	



⑥	4.8
-	3.2
<hr/>	

⑦	9
-	1.7
<hr/>	

⑧  $6.2 - 2.2$

⑨  $5.4 - 4.6$


⑩  $8.4 - 6$



⑪  $3.5 - 2.4$

⑫  $6 - 2.5$

⑬  $7.2 - 6.8$





# 小数のたし算とひき算 II

● 差が整数か真小数になる筆算



日にち： 月 日

名まえ \_\_\_\_\_

・ 次の計算をしなさい。

①  $4.3 - 2.3 = 2$

②  $7.2 - 0.2 = 7$

③  $2.5 - 1.6 = 0.9$

④  $5.3 - 1.2 = 4.1$

⑤

	<del>7</del> .3
-	6.9
<hr/>	
	0.4

⑥

	4.8
-	3.2
<hr/>	
	1.6

⑦

	<del>9</del> .0
-	1.7
<hr/>	
	7.3

⑧  $6.2 - 2.2$

⑨  $5.4 - 4.6$

⑩  $8.4 - 6$

	6.2
-	2.2
<hr/>	
	4.0

	<del>5</del> .4
-	4.6
<hr/>	
	0.8

	8.4
-	6.0
<hr/>	
	2.4

⑪  $3.5 - 2.4$

⑫  $6 - 2.5$

⑬  $7.2 - 6.8$

	3.5
-	2.4
<hr/>	
	1.1

	<del>6</del> .0
-	2.5
<hr/>	
	3.5

	<del>7</del> .2
-	6.8
<hr/>	
	0.4

