



小数のたし算とひき算 II

● 差が整数か真小数になる筆算



日にち： 月 日

名まえ _____

・ 次の計算をしましょう。

① $4.3 - 2.3 =$

② $7.2 - 0.2 =$

③ $2.5 - 1.6 =$

④ $5.3 - 1.2 =$

⑤	7.3
-	6.9
<hr/>	



⑥	4.8
-	3.2
<hr/>	

⑦	9
-	1.7
<hr/>	

⑧ $6.2 - 2.2$

⑨ $5.4 - 4.6$


⑩ $8.4 - 6$



⑪ $3.5 - 2.4$

⑫ $6 - 2.5$

⑬ $7.2 - 6.8$





小数のたし算とひき算 II

● 差が整数か真小数になる筆算



日にち： 月 日

名まえ _____

・ 次の計算をしましょう。

① $4.3 - 2.3 = 2$

② $7.2 - 0.2 = 7$

③ $2.5 - 1.6 = 0.9$

④ $5.3 - 1.2 = 4.1$

⑤

	7 .3
-	6.9
<hr/>	
	0.4

⑥

	4.8
-	3.2
<hr/>	
	1.6

⑦

	9 .0
-	1.7
<hr/>	
	7.3

⑧ $6.2 - 2.2$

⑨ $5.4 - 4.6$

⑩ $8.4 - 6$

⑧

	6.2
-	2.2
<hr/>	
	4.0

⑨

	5 .4
-	4.6
<hr/>	
	0.8

⑩

	8.4
-	6.0
<hr/>	
	2.4

⑪ $3.5 - 2.4$

⑫ $6 - 2.5$

⑬ $7.2 - 6.8$

⑪

	3.5
-	2.4
<hr/>	
	1.1

⑫

	6 .0
-	2.5
<hr/>	
	3.5

⑬

	7 .2
-	6.8
<hr/>	
	0.4

