



小数の意味と表し方 10

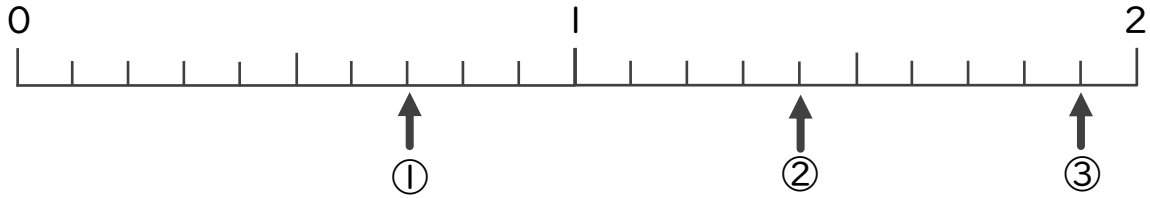
数直線の小数の読みとり



日にち： 月 日

名まえ

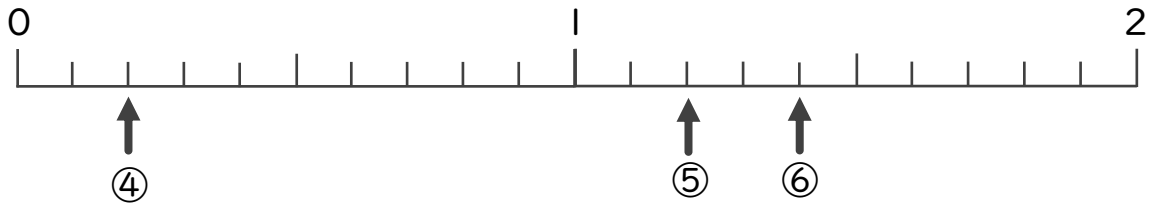
下の数直線を見て ↑ のめもりが表す数を書きましょう。



①

②

③

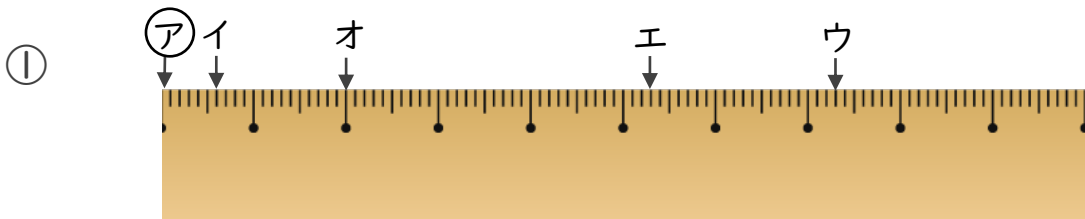


④

⑤

⑥

2 アからイ、ウ、エ、オまでの長さは、それぞれ何cmですか。



答え

アからイ

アからウ

アからエ

アからオ



小数の意味と表し方 10

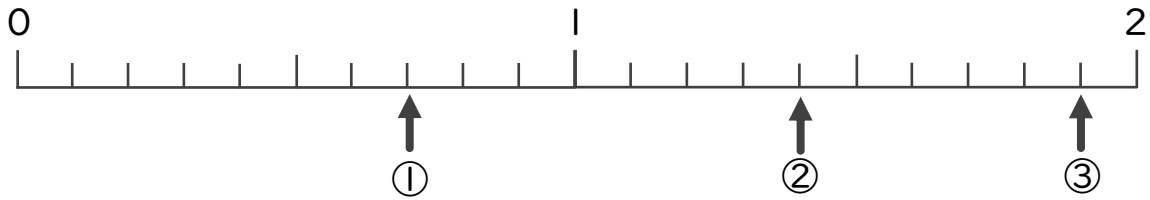
数直線の小数の読みとり



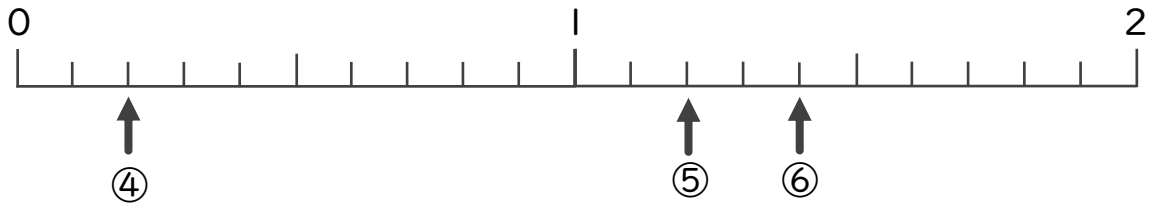
日にち： 月 日

名まえ

下の数直線を見て ↑ のめもりが表す数を書きましょう。

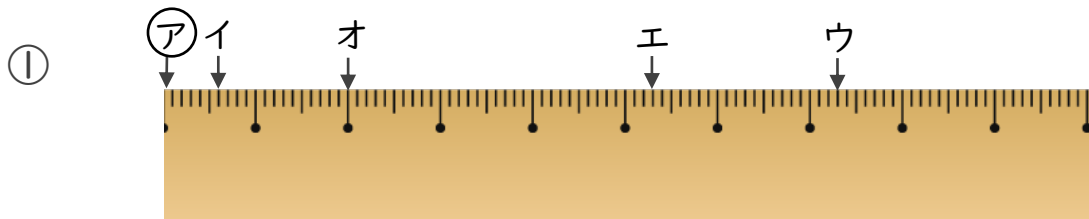


① 0.7 ② 1.4 ③ 1.9



④ 0.2 ⑤ 1.2 ⑥ 1.4

2 ㉞からイ、ウ、エ、オまでの長さは、それぞれ何cmですか。



答え ㉞からイ 0.6 cm ㉞からウ 7.3 cm

㉞からエ 5.3 cm ㉞からオ 2 cm