



**時こくと時間の
もとめかた 8 14**

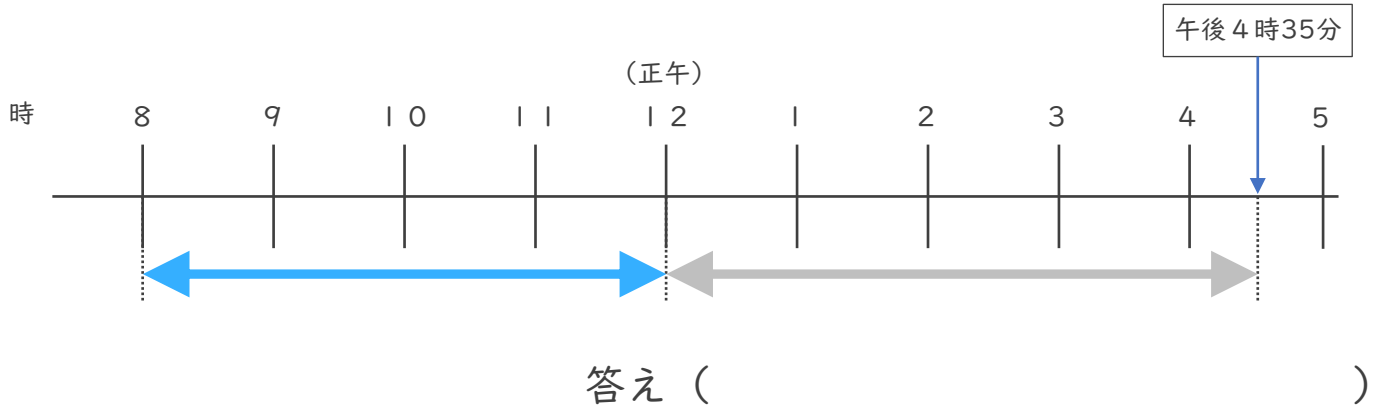
◎ 正午をはさむ計算

日にち： 月 日

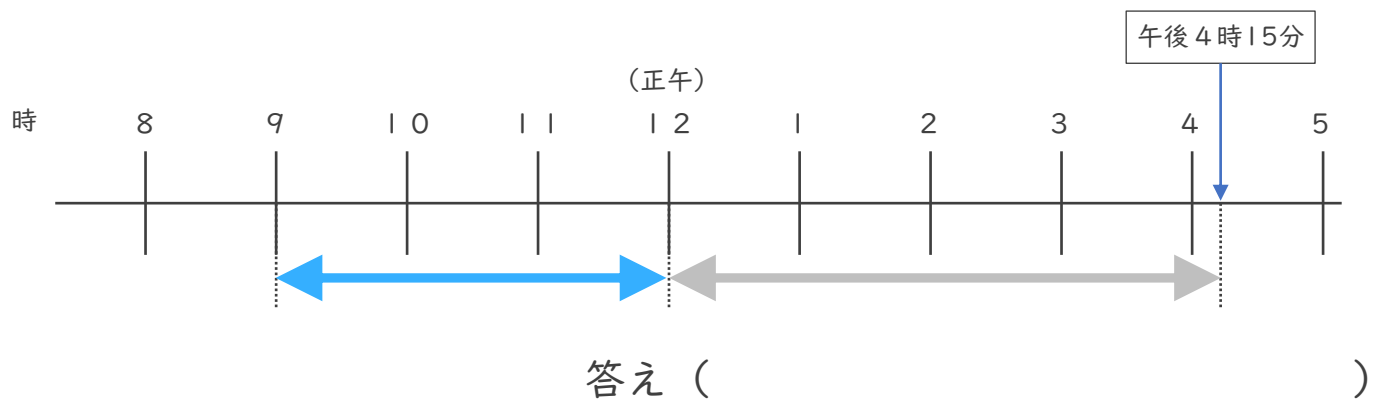
名まえ _____

・ 次の時間をもとめましょう。

① 午前8時から午後4時35分までの時間



② 午前9時から午後4時15分までの時間



③ 午前7時45分から午前11時20分までの時間

時	分
—	—
時	分

答え ()



時こくと時間の もとめかた 8

14

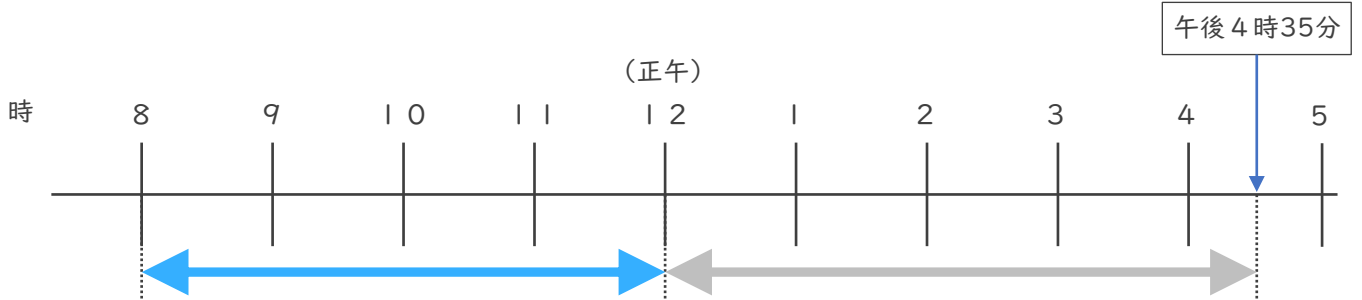
◎ 正午をはさむ計算

日にち： 月 日

名まえ _____

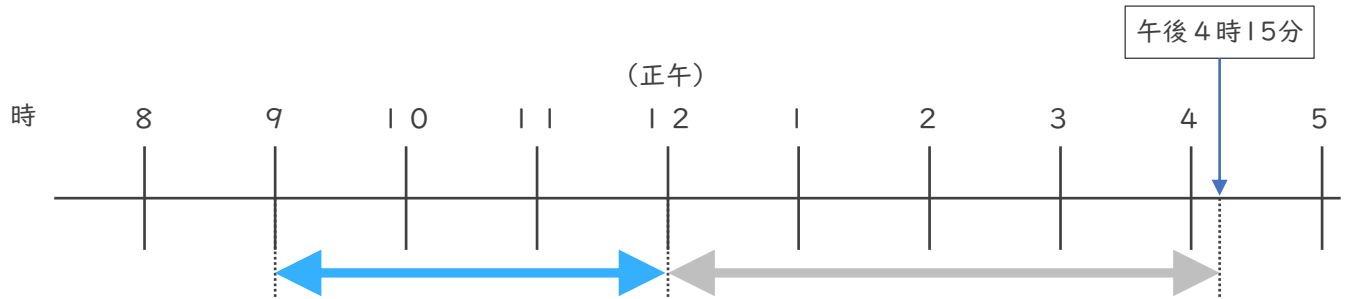
・ 次の時間をもとめましょう。

① 午前8時から午後4時35分までの時間



答え (8 時間 3 5 分)

② 午前9時から午後4時15分までの時間



答え (7 時間 1 5 分)

③ 午前7時45分から午前11時20分までの時間

	10	80	
11	時	20	分
-	7	時	45
	3	35	

答え (3 時間 3 5 分)