

# 重さのたんいと はかりかた214


● 重り何こ分？

日にち：            月            日

名まえ \_\_\_\_\_


・いろいろなものの重さを、おもりを使って表します。

- ① けしゴムとえんぴつの重さを比べたら、次のようにかたおきました。  
どちらが重いですか。




答え： \_\_\_\_\_

- ② コンパスとえんぴつは、どちらの方がおもり何こ分重いと  
いえますか。



答え： \_\_\_\_\_



# 重さのたんいと はかりかた214


● 重り何こ分？

日にち：            月            日

名まえ \_\_\_\_\_


・いろいろなものの重さを、おもりを使って表します。

- ① けしゴムとえんぴつの重さを比べたら、次のようにかたおきました。  
どちらが重いですか。



答え：           けしゴム          

- ② コンパスとえんぴつは、どちらの方がおもり何こ分重いと  
いえますか。



答え：           コンパスの方が2こ分重い