



分数 8

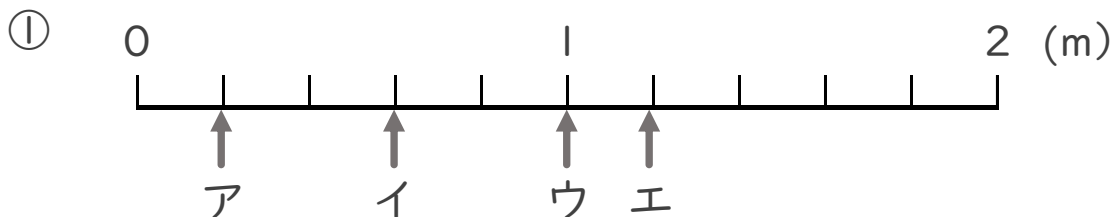
● 1より大きい分数を
数直線に表す



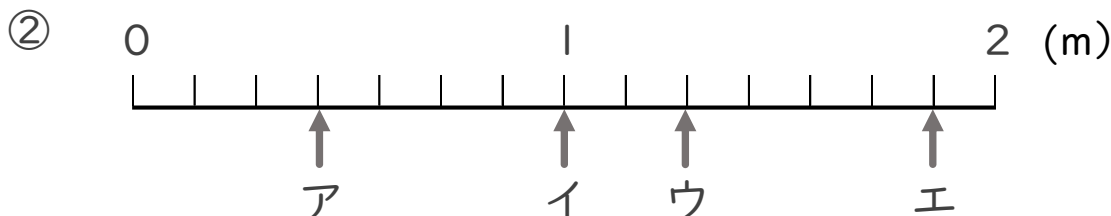
日にち： 月 日

名まえ _____

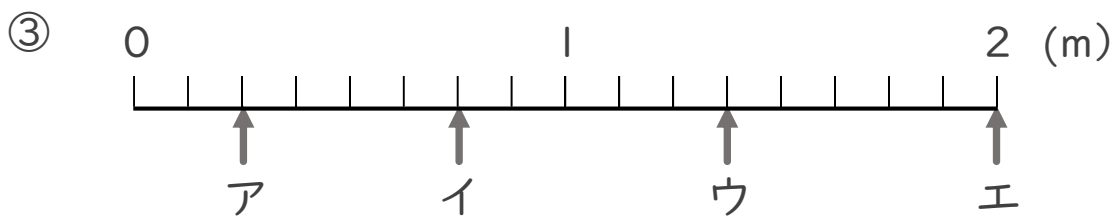
・ ア～エのめもりが表す長さは、それぞれ何mですか。



答え ア イ ウ エ
 _____ m _____ m _____ m _____ m



答え ア イ ウ エ
 _____ m _____ m _____ m _____ m



答え ア イ ウ エ
 _____ m _____ m _____ m _____ m



分数 8

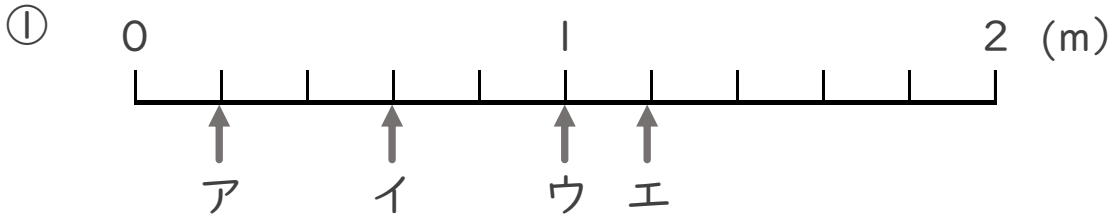
● 1より大きい分数を
数直線に表す

14

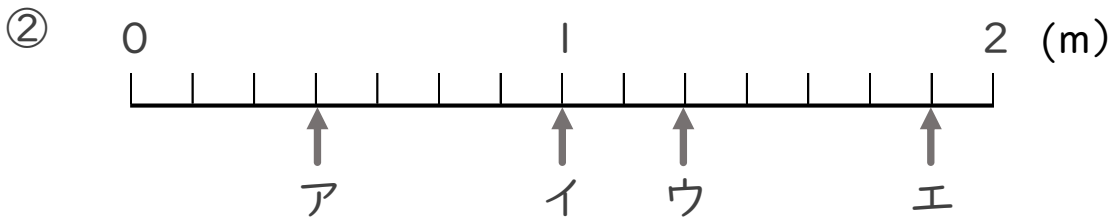
日にち： 月 日

名まえ _____

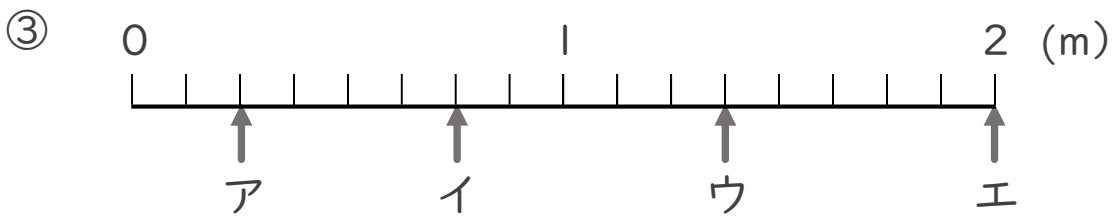
・ ア～エのめもりが表す長さは、それぞれ何mですか。



答え ア $\frac{1}{5}$ m イ $\frac{3}{5}$ m ウ 1 m エ $\frac{6}{5}$ m



答え ア $\frac{3}{7}$ m イ 1 m ウ $\frac{9}{7}$ m エ $\frac{13}{7}$ m



答え ア $\frac{2}{8}$ m イ $\frac{6}{8}$ m ウ $\frac{11}{8}$ m エ 2 m