



# 分数 7

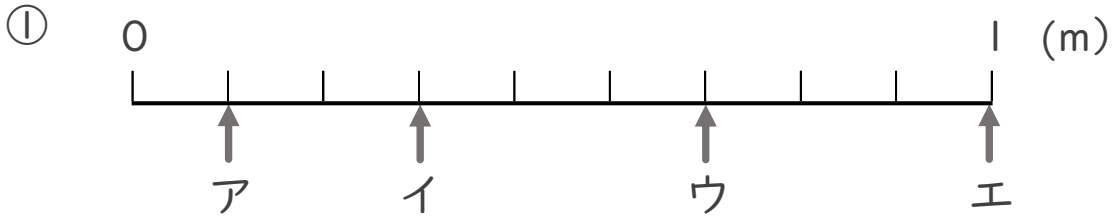
● 1より小さい分数を数直線に表す



日にち： 月 日

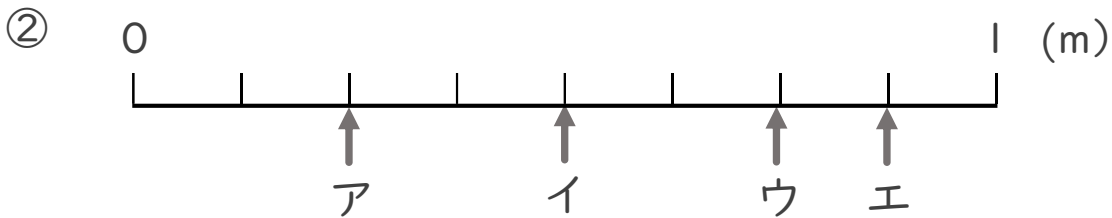
名まえ \_\_\_\_\_

1 ア～エのめもりが表す長さは、それぞれ何mですか。



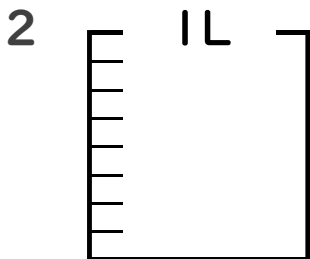
答え    ア                    イ                    ウ                    エ

                  \_\_\_\_\_ m    \_\_\_\_\_ m    \_\_\_\_\_ m    \_\_\_\_\_ m



答え    ア                    イ                    ウ                    エ

                  \_\_\_\_\_ m    \_\_\_\_\_ m    \_\_\_\_\_ m    \_\_\_\_\_ m



①  $\frac{1}{8}$  Lの7こ分だけ色をぬりましょう。

② 色をぬったところのかさは何Lですか。 \_\_\_\_\_ L



# 分数 7

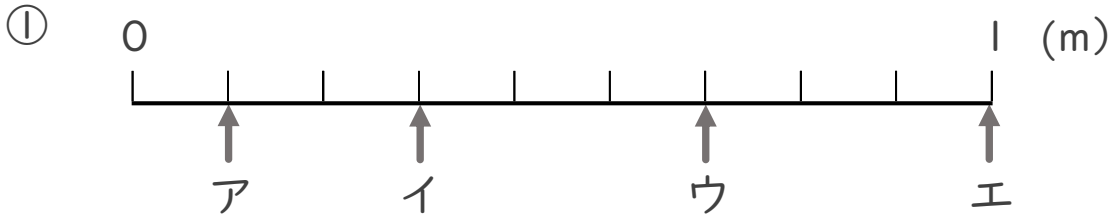
● 1より小さい分数を数直線に表す



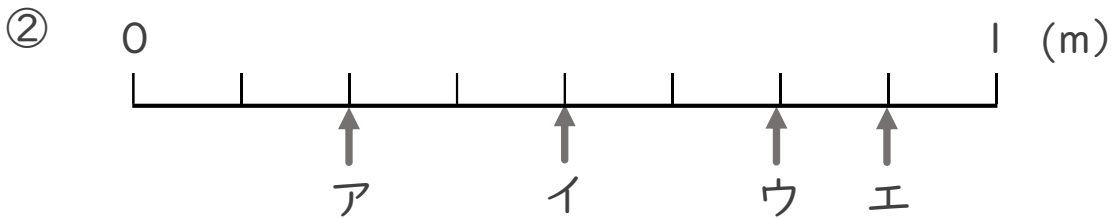
日にち： 月 日

名まえ \_\_\_\_\_

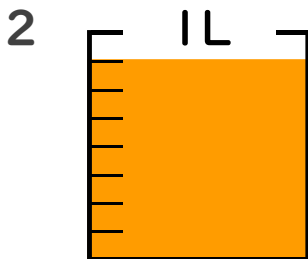
1 ア～エのめもりが表す長さは、それぞれ何mですか。



答え ア  $\frac{1}{9}$  m イ  $\frac{3}{9}$  m ウ  $\frac{6}{9}$  m エ 1 m



答え ア  $\frac{2}{8}$  m イ  $\frac{4}{8}$  m ウ  $\frac{6}{8}$  m エ  $\frac{7}{8}$  m



①  $\frac{1}{8}$  Lの7こ分だけ色をぬりましょう。

② 色をぬったところのかさは何Lですか。  $\frac{7}{8}$  L