



たし算と
ひき算の筆算 ①

14

3けたのたし算

日にち： 月 日


名まえ _____

・ 次の計算を筆算でしましょう。


$$\begin{array}{r} \textcircled{1} \quad 503 \\ + 314 \\ \hline \end{array}$$

$$\begin{array}{r} \textcircled{2} \quad 551 \\ + 411 \\ \hline \end{array}$$


$$\textcircled{3} \quad 362 + 212$$




$$\textcircled{4} \quad 261 + 120$$



$$\textcircled{5} \quad 121 + 174$$



$$\textcircled{6} \quad 306 + 322$$





たし算と
ひき算の筆算 ①

3けたのたし算

14

日にち： 月 日

名まえ _____

・ 次の計算を筆算でしましょう。

$$\begin{array}{r} \textcircled{1} \quad 503 \\ + 314 \\ \hline 817 \end{array}$$

$$\begin{array}{r} \textcircled{2} \quad 551 \\ + 411 \\ \hline 962 \end{array}$$

$$\textcircled{3} \quad 362 + 212$$

	3	6	2
+	2	1	2
<hr/>			
	5	7	4

$$\textcircled{4} \quad 261 + 120$$

	2	6	1
+	1	2	0
<hr/>			
	3	8	1

$$\textcircled{5} \quad 121 + 174$$

	1	2	1
+	1	7	4
<hr/>			
	2	9	5

$$\textcircled{6} \quad 306 + 322$$

	3	0	6
+	3	2	2
<hr/>			
	6	2	8