



たし算と
ひき算の筆算 15

● 3けた-2けた
(十の位が0)

14

日にち： 月 日

名まえ _____



・ 次の計算を筆算でしましょう。

①
$$\begin{array}{r} 403 \\ - 76 \\ \hline \end{array}$$

②
$$\begin{array}{r} 505 \\ - 9 \\ \hline \end{array}$$


③ $900 - 386$

④ $302 - 5$



⑤ $504 - 28$

⑥ $701 - 533$





たし算と
ひき算の筆算 15

● 3けた - 2けた
(十の位が0)

14

日にち： 月 日

名まえ _____

・ 次の計算を筆算でしましょう。

$$\begin{array}{r} 9 \\ 3 \cancel{0} 10 \\ \textcircled{1} \quad \cancel{4} \cancel{0} 3 \\ - 7 6 \\ \hline 3 2 7 \end{array}$$

$$\begin{array}{r} 9 \\ 4 \cancel{0} 10 \\ \textcircled{2} \quad \cancel{5} \cancel{0} 5 \\ - 9 \\ \hline 4 9 6 \end{array}$$

$$\begin{array}{r} 9 \\ 8 \cancel{0} 10 \\ \textcircled{3} \quad 9 \cancel{0} 0 \\ - 3 8 6 \\ \hline 5 1 4 \end{array}$$

$$\begin{array}{r} 9 \\ 2 \cancel{0} 10 \\ \textcircled{4} \quad \cancel{3} \cancel{0} 2 \\ - 5 \\ \hline 2 9 7 \end{array}$$

$$\begin{array}{r} 9 \\ 4 \cancel{0} 10 \\ \textcircled{5} \quad \cancel{5} \cancel{0} 4 \\ - 2 8 \\ \hline 4 7 6 \end{array}$$

$$\begin{array}{r} 9 \\ 6 \cancel{0} 10 \\ \textcircled{6} \quad \cancel{7} \cancel{0} 1 \\ - 5 3 3 \\ \hline 1 6 8 \end{array}$$