



たし算と
ひき算の筆算 20

◎ 4けた-3けた
(くり下がりがりあり)

14

日にち： 月 日

名まえ _____



・ 次の計算を筆算でしましょう。

$$\begin{array}{r} \textcircled{1} \quad 8311 \\ - \quad \quad 76 \\ \hline \end{array}$$

$$\begin{array}{r} \textcircled{2} \quad 9503 \\ - \quad 8714 \\ \hline \end{array}$$



$$\textcircled{3} \quad 6516 - 3897$$

$$\textcircled{4} \quad 6106 - 570$$



$$\textcircled{5} \quad 3848 - 96$$

$$\textcircled{6} \quad 4513 - 2676$$





たし算と
ひき算の筆算 20

◎ 4けた - 3けた
(くり下がりがりあり)

14

日にち： 月 日

名まえ _____

・ 次の計算を筆算でしましょう。

$$\begin{array}{r} 10 \\ 20 \\ 8311 \\ - \quad 76 \\ \hline 8235 \end{array}$$

$$\begin{array}{r} 10 \quad 9 \\ 84 \quad 10 \\ 9503 \\ - 8714 \\ \hline 789 \end{array}$$

③ 6516 - 3897

	5	10	10	
	6	5	1	6
-	3	8	9	7
	2	6	1	9

④ 6106 - 570

	5	10		
	6	1	0	6
-		5	7	0
	5	5	3	6

⑤ 3848 - 96

	7	10		
	3	8	4	8
-			9	6
	3	7	5	2

⑥ 4513 - 2676

	10	10		
	3	4	0	10
	4	5	1	3
-	2	6	7	6
	1	8	3	7