




時こくと時間の
もとめかた 9 15

○分前の時こく (時計)

めざせ100点!



名まえ _____

1 公園を出て45分歩いて、学校に10時15分に着きました。次の問題に
答えましょう。(各35点)

① 45分前の時計に長いはりをかきましょう。



45分前の時計

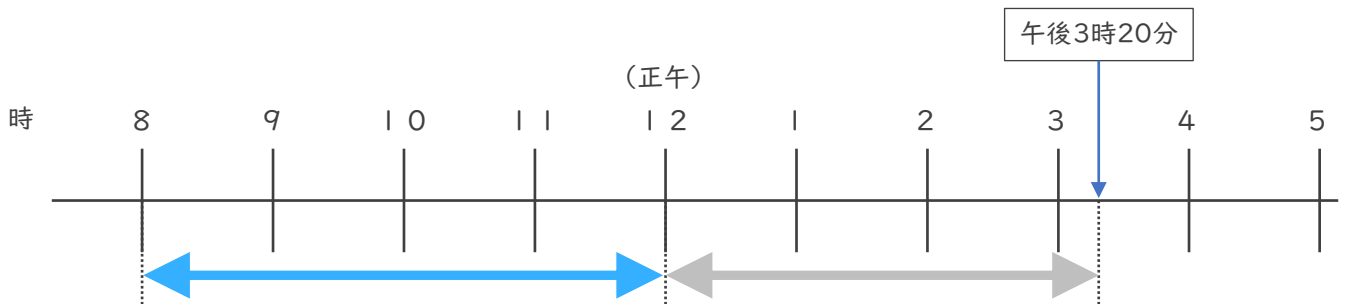


10時15分

② 公園を出た時こくは何時何分ですか。

答え ()

2 午前8時から午後3時20分までの時間をもとめましょう。(30点)




答え ()



時こくと時間のもとめかた 9 15

○分前の時こく (時計)

めざせ100点!




名まえ _____

1 公園を出て45分歩いて、学校に10時15分に着きました。次の問題に答えましょう。(各35点)

① 45分前の時計に長いはりをかきましょう。



45分前の時計

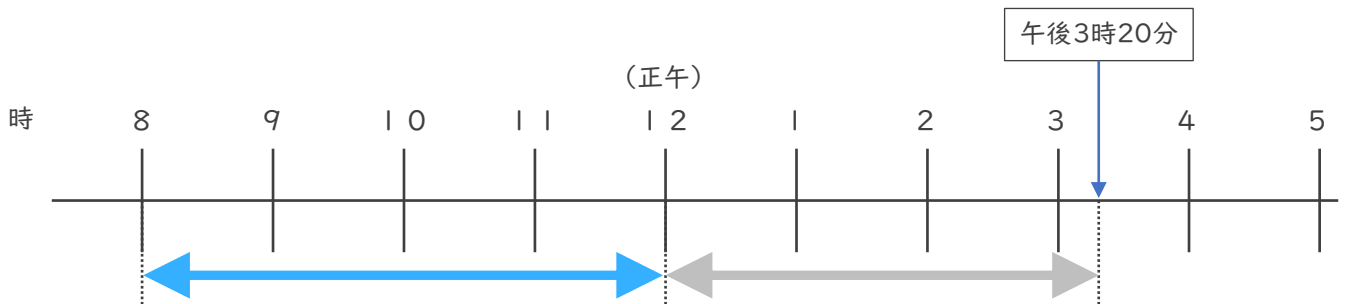


10時15分

② 公園を出た時こくは何時何分ですか。

答え (9時30分)

2 午前8時から午後3時20分までの時間をもとめましょう。(30点)



答え (7時間20分)

