




時こくと時間の
もとめかた 10 15

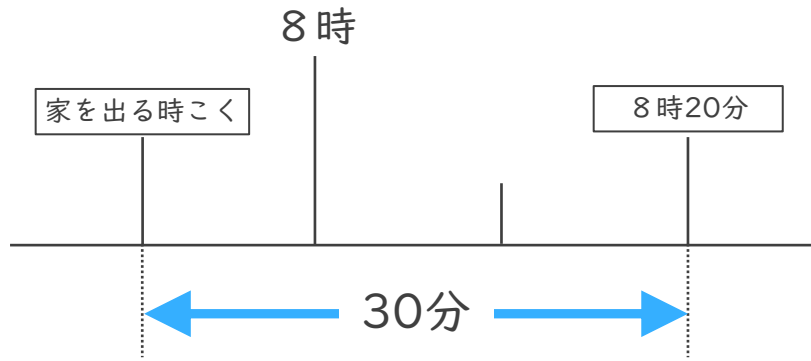
○分前の時こく (数直線)

めざせ100点!



名まえ _____

- 1 ゆうこさんの家から公園まで30分かかります。8時20分までに公園に着くためには、おそくとも何時何分までに家を出なければならぬでしょうか。(50点)



答え ()

- 2 公園を出て30分歩いて、学校に10時20分に着きました。次の問題に答えましょう。(各25点)

- ① 30分前の時計に長いはりをかきましょう。



30分前の時計



10時20分

- ② 公園を出た時こくは何時何分ですか。


答え ()



時こくと時間の
もとめかた 10 15

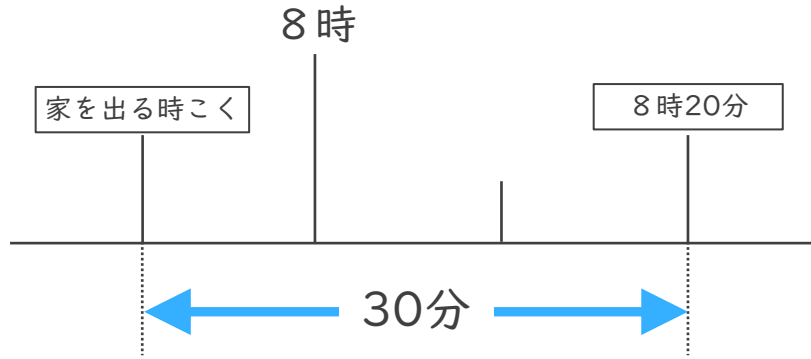
○分前の時こく (数直線)

めざせ100点!



名まえ _____

- 1 ゆうこさんの家から公園まで30分かかります。8時20分までに公園に着くためには、おそくとも何時何分までに家を出なければならぬでしょうか。(50点)



答え (**7時50分**)

- 2 公園を出て30分歩いて、学校に10時20分に着きました。次の問題に答えましょう。(各25点)

- ① 30分前の時計に長いはりをかきましょう。



30分前の時計



10時20分

- ② 公園を出た時こくは何時何分ですか。

答え (**9時50分**)