




時こくと時間の  
もとめかた 9 15

○分前の時こく (時計)

めざせ100点!



てん

名 \_\_\_\_\_

1 公園を出て45分歩いて、学校に10時15分に着きました。次の問題に  
答えましょう。(各35点)

① 45分前の時計に長いはりをかきましょう。



45分前の時計

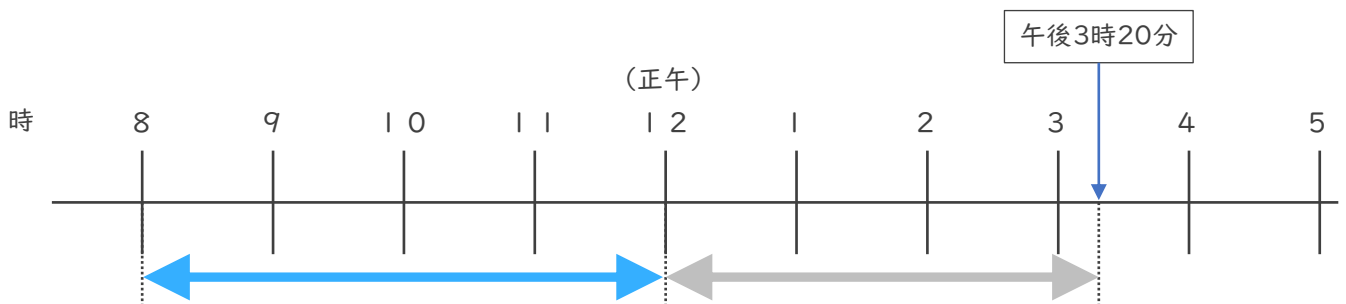


10時15分

② 公園を出た時こくは何時何分ですか。

答え ( )

2 午前8時から午後3時20分までの時間をもとめましょう。(30点)



答え ( )






時こくと時間の  
もとめかた 9 15

○分前の時こく (時計)

めざせ100点!



てん


名 \_\_\_\_\_

1 公園を出て45分歩いて、学校に10時15分に着きました。次の問題に  
答えましょう。(各35点)

① 45分前の時計に長いはりをかきましょう。



45分前の時計

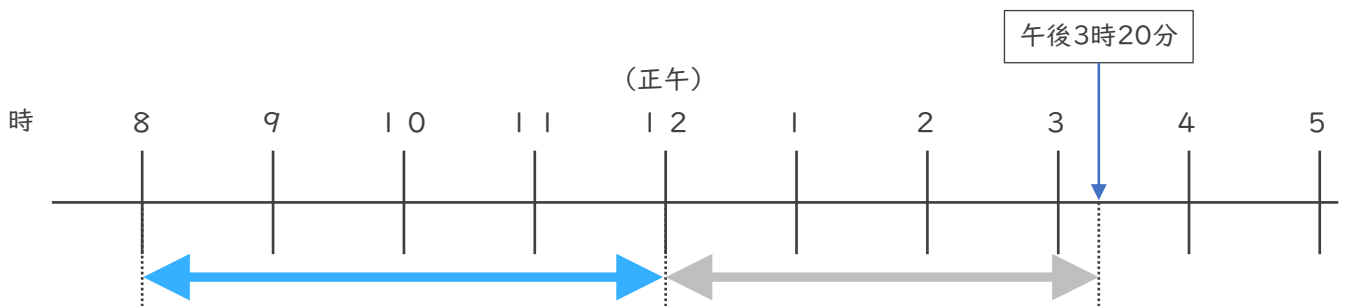


10時15分

② 公園を出た時こくは何時何分ですか。

答え ( 9時30分 )

2 午前8時から午後3時20分までの時間をもとめましょう。(30点)



答え ( 7時間20分 )

