




時こくと時間の
もとめかた 12 15

○時間△分前の時こく (計算)

めざせ100点!



名 _____

1 次の時間をもとめましょう。(各35点)

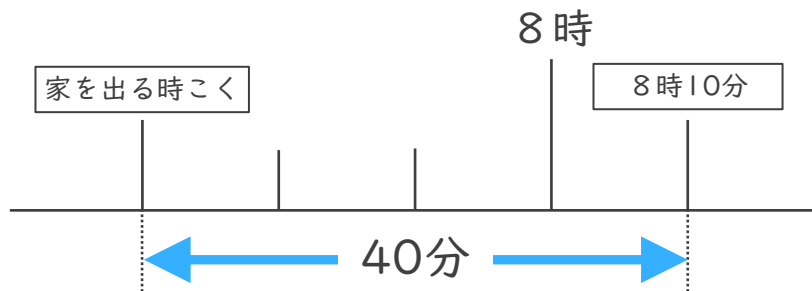
① 午前6時より2時間35分前の時こく

$$\begin{array}{r}
 6 \text{ 時 } 00 \text{ 分} \\
 - 2 \text{ 時 } 35 \text{ 分} \\
 \hline
 \text{時} \quad \text{分} \quad \text{答え (} \quad \quad \quad \text{)}
 \end{array}$$

② 午前7時より1時間30分前の時こく

$$\begin{array}{r}
 7 \text{ 時 } 00 \text{ 分} \\
 - 1 \text{ 時 } 30 \text{ 分} \\
 \hline
 \text{時} \quad \text{分} \quad \text{答え (} \quad \quad \quad \text{)}
 \end{array}$$

2 けんさんの家から公園まで40分かかります。8時10分までに公園に着くためには、おそくとも何時何分までに家を出なければならないでしょうか。(30点)




答え ()



時こくと時間の
もとめかた 12 15

○時間△分前の時こく (計算)

めざせ100点!



名 _____

1 次の時間をもとめましょう。(各35点)

① 午前6時より2時間35分前の時こく

$$\begin{array}{r}
 5 \quad 60 \\
 \cancel{6} \text{ 時 } \cancel{00} \text{ 分} \\
 - \quad 2 \text{ 時 } 35 \text{ 分} \\
 \hline
 3 \text{ 時 } 25 \text{ 分}
 \end{array}$$

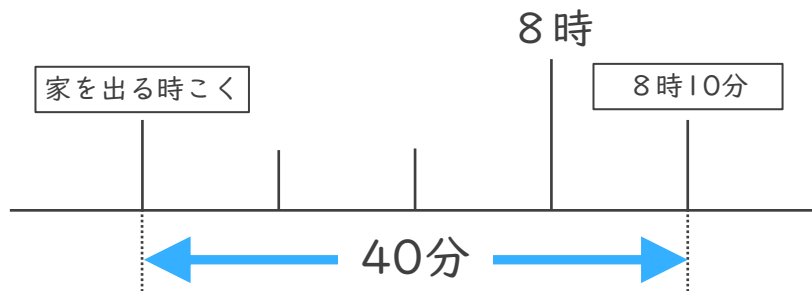
答え (3時25分)

② 午前7時より1時間30分前の時こく

$$\begin{array}{r}
 6 \quad 60 \\
 \cancel{7} \text{ 時 } \cancel{00} \text{ 分} \\
 - \quad 1 \text{ 時 } 30 \text{ 分} \\
 \hline
 5 \text{ 時 } 30 \text{ 分}
 \end{array}$$

答え (5時30分)

2 けんさんの家から公園まで40分かかります。8時10分までに公園に着くためには、おそくとも何時何分までに家を出なければならないでしょうか。(30点)



答え (7時30分)

