




長いものの長さの はかり方と表し方 4

● きよりと道のり (メートル)

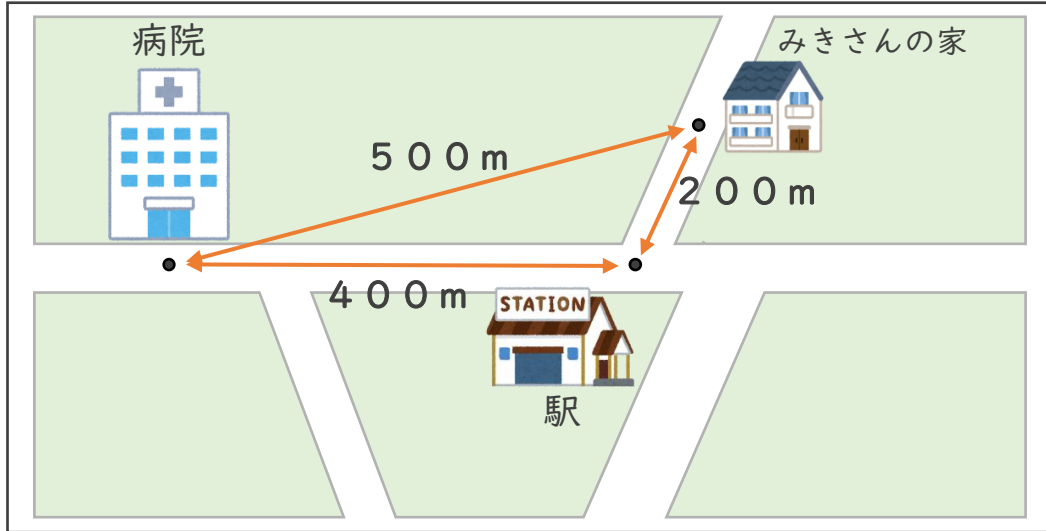
15

めざせ80点!



名まえ _____

I 下の絵地図を見て、次の長さをもとめましょう。(各20点)



① みきさんの家から病院までのきよりは、何mですか。

答え ()

② みきさんの家から病院までの道のりは、何mですか。

式：

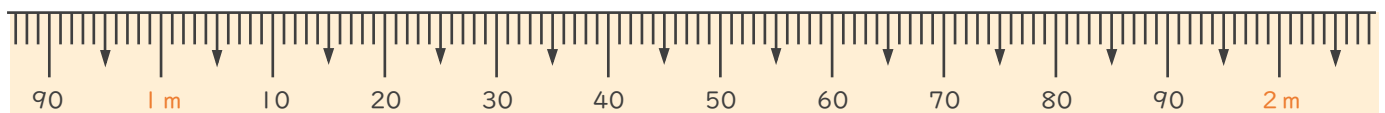
答え ()

2 次のまきじゃくで、①～③の長さを表すメモリに↓をかきましょう。
(各20点)

① 1 m 10 cm

② 1 m 24 cm

③ 1 m 98 cm






長いものの長さの はかり方と表し方 4

● きよりと道のり (メートル)

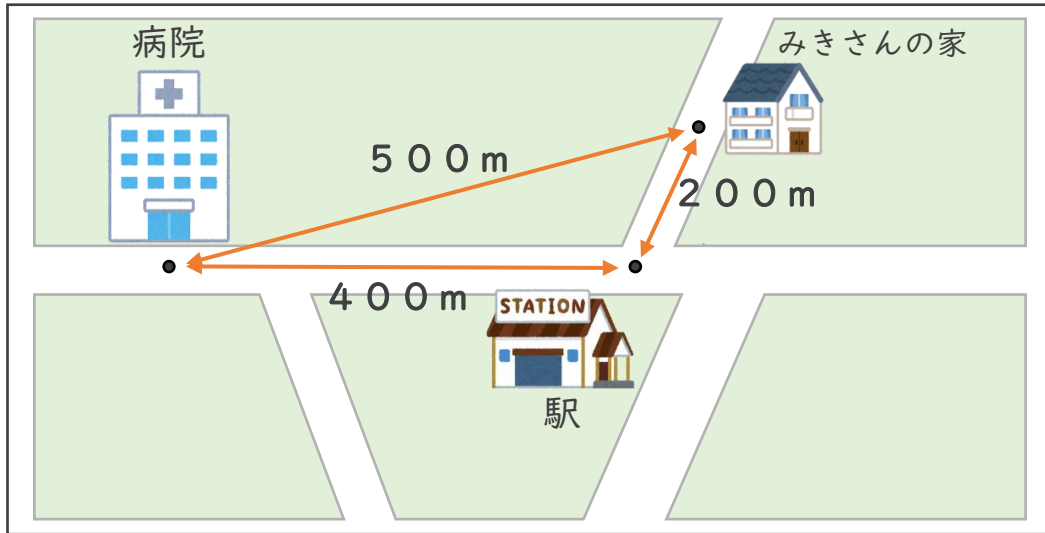
15

めざせ80点!



名まえ

1 下の絵地図を見て、次の長さをもとめましょう。(各20点)



① みきさんの家から病院までのきよりは、何mですか。

答え (500m)

② みきさんの家から病院までの道のりは、何mですか。

式: $200m + 400m = 600m$

答え (600m)

2 次のまきじゃくで、①～③の長さを表すメモリに↓をかきましょう。
(各20点)

① 1m10cm

② 1m24cm

③ 1m98cm

