



小数のたし算とひき算 9

◎ ひき算の筆算：繰り下がりあり

15

目指せ80点!



名まえ _____

1 次の計算をしましょう。(各10点)

①

	3	.	9
-	1	.	5


②

	4	.	2
-	0	.	6


③

	9	.	5
-	7	.	6

④ $9.1 - 2.4$



⑤ $2.1 - 0.8$



2 次の計算をしましょう。(各10点)

①

	1	.	6
+	8	.	3


②

	4	.	9
+	2	.	3

③

	5	.	8
+	2	.	2

④ $6 + 1.7$



⑤ $2.8 + 8.6$





小数のたし算とひき算 9

ひき算の筆算：繰り下がりがりあり

15

目指せ80点!



名まえ

1 次の計算をしましょう。(各10点)

$$\begin{array}{r} 3.9 \\ - 1.5 \\ \hline 2.4 \end{array}$$

$$\begin{array}{r} 4.2 \\ - 0.6 \\ \hline 3.6 \end{array}$$

$$\begin{array}{r} 9.5 \\ - 7.6 \\ \hline 1.9 \end{array}$$

④ $9.1 - 2.4$

⑤ $2.1 - 0.8$

$$\begin{array}{r} 9.1 \\ - 2.4 \\ \hline 6.7 \end{array}$$

$$\begin{array}{r} 2.1 \\ - 0.8 \\ \hline 1.3 \end{array}$$

2 次の計算をしましょう。(各10点)

$$\begin{array}{r} 1.6 \\ + 8.3 \\ \hline 9.9 \end{array}$$

$$\begin{array}{r} 4.9 \\ + 2.3 \\ \hline 7.2 \end{array}$$

$$\begin{array}{r} 5.8 \\ + 2.2 \\ \hline 8.0 \end{array}$$

④ $6 + 1.7$

⑤ $2.8 + 8.6$

$$\begin{array}{r} 6.0 \\ + 1.7 \\ \hline 7.7 \end{array}$$

$$\begin{array}{r} 2.8 \\ + 8.6 \\ \hline 11.4 \end{array}$$

