



長いものの長さの はかり方と表し方 2

15

● まきじゃくへの書きこみ

めざせ85点!



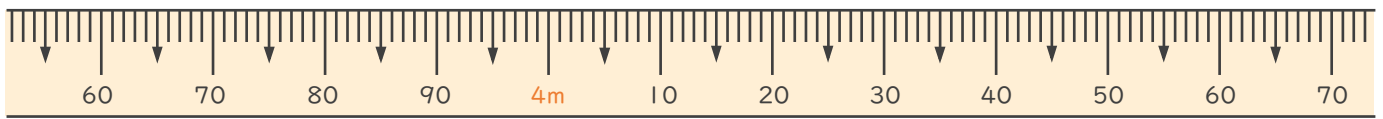
名まえ _____

1 次のまきじゃくで、①～③の長さを表すめもりに ↓ をかきましょう。
(各15点)

① 3 m 6 4 c m

② 4 m 1 0 c m

③ 4 m 4 5 c m

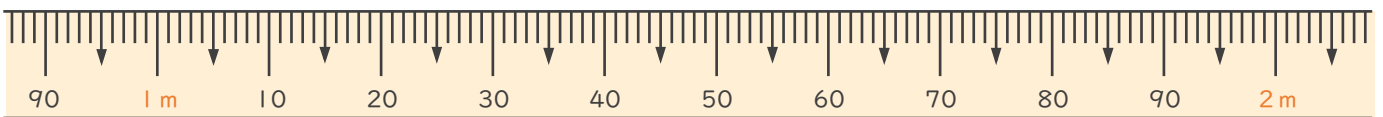


2 次のまきじゃくで、①～③の長さを表すめもりに ↓ をかきましょう。
(各15点)

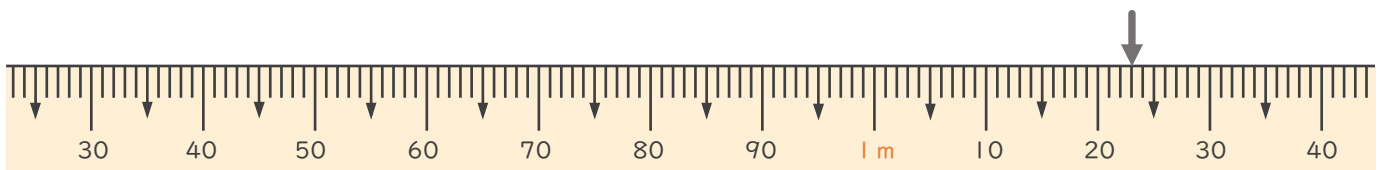
① 1 m 1 2 c m

② 1 m 3 8 c m

③ 1 m 8 4 c m



3 次のまきじゃくで、↓ のめもりが表している長さを読み取りましょう。
(10点)



答え ()





長いものの長さの
はかり方と表し方 2

15

まきじゃくへの書きこみ

めざせ85点!



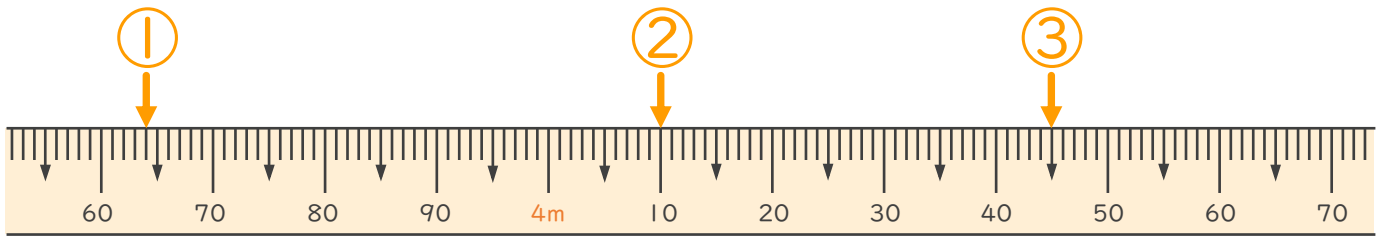
名まえ

1 次のまきじゃくで、①～③の長さを表すめもりに ↓ をかきましょう。
(各15点)

① 3 m 6 4 c m

② 4 m 1 0 c m

③ 4 m 4 5 c m

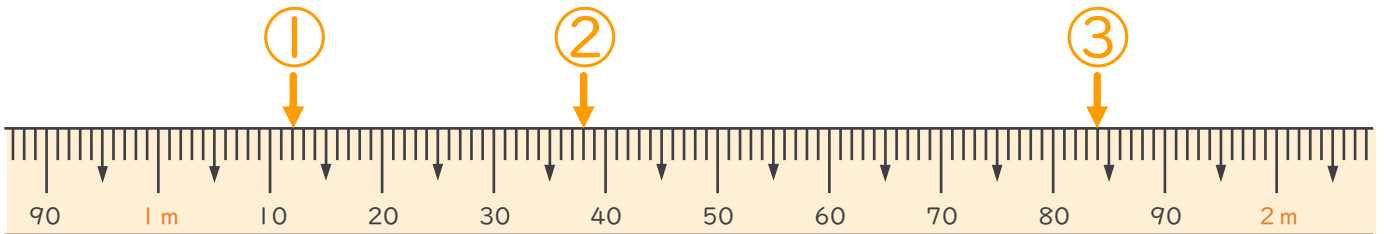


2 次のまきじゃくで、①～③の長さを表すめもりに ↓ をかきましょう。
(各15点)

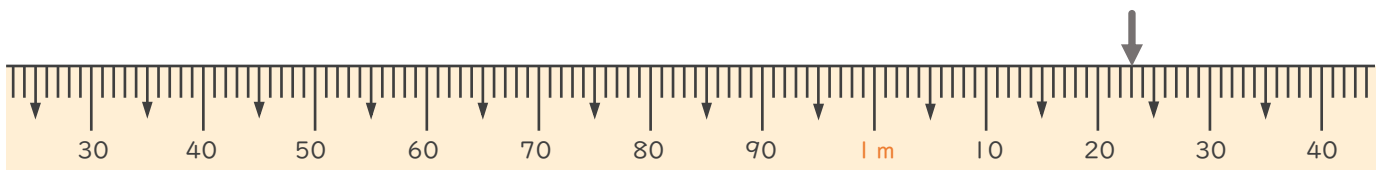
① 1 m 1 2 c m

② 1 m 3 8 c m

③ 1 m 8 4 c m



3 次のまきじゃくで、↓のめもりが表している長さを読み取りましょう。
(10点)



答え (1 m 2 3 c m)

