



長いものの長さの
はかり方と表し方 2

15

● まきじゃくへの書きこみ

めざせ85点!



名まえ _____

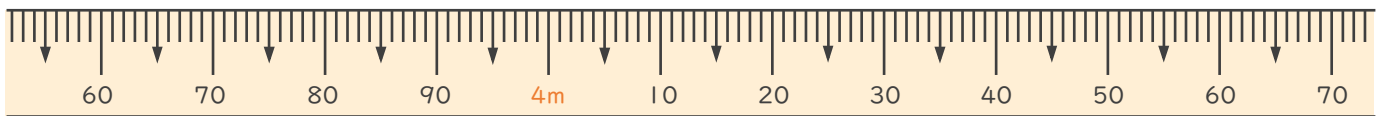
1 次のまきじゃくで、①～③の長さを表すメモりに ↓ をかきましょう。

(各15点)

① 3 m 6 4 c m

② 4 m 1 0 c m

③ 4 m 4 5 c m



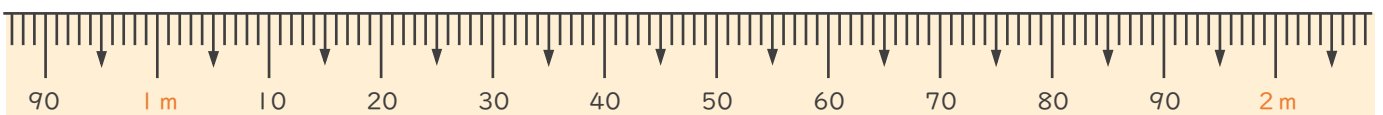
2 次のまきじゃくで、①～③の長さを表すメモりに ↓ をかきましょう。

(各15点)

① 1 m 1 2 c m

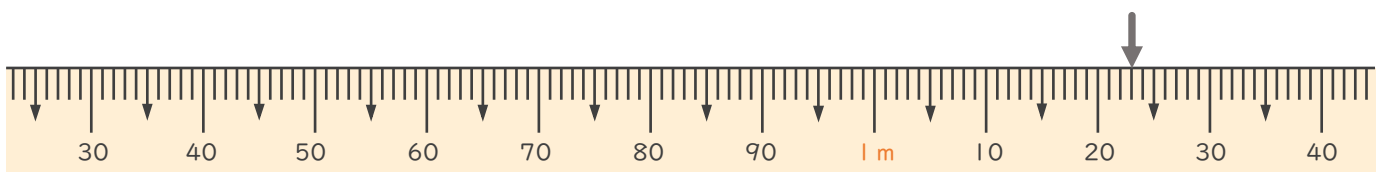
② 1 m 3 8 c m

③ 1 m 8 4 c m



3 次のまきじゃくで、↓のメモ리가表している長さを読み取りましょう。

(10点)



答え ()




長いものの長さの
はかり方と表し方 2

15

● まきじゃくへの書きこみ

めざせ85点!



名まえ _____

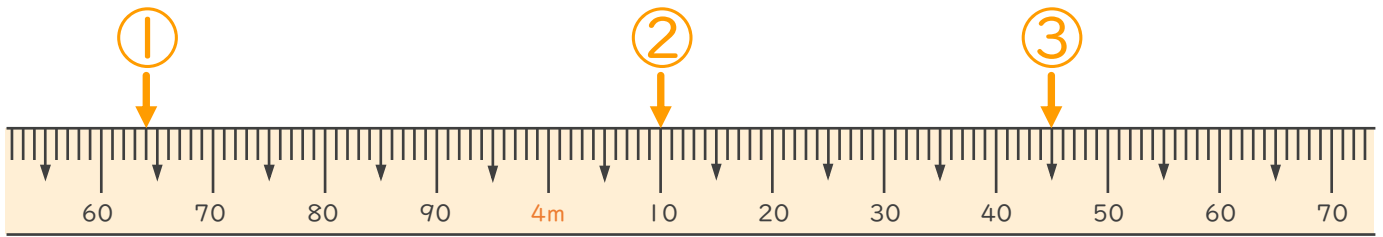
1 次のまきじゃくで、①～③の長さを表すメモリに ↓ をかきましょう。

(各15点)

① 3 m 6 4 c m

② 4 m 1 0 c m

③ 4 m 4 5 c m



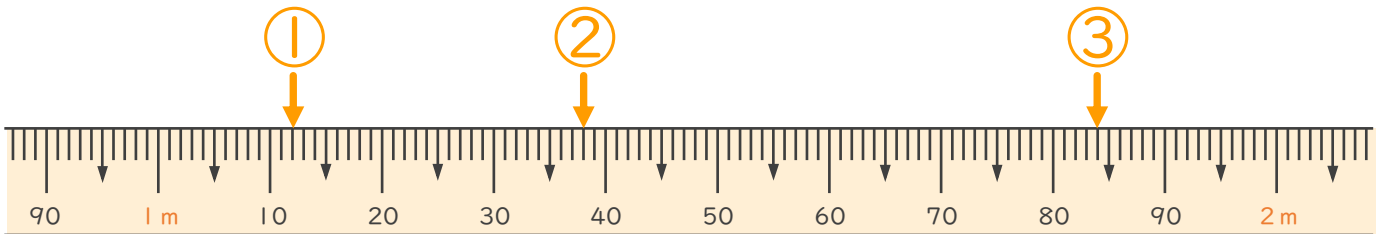
2 次のまきじゃくで、①～③の長さを表すメモリに ↓ をかきましょう。

(各15点)

① 1 m 1 2 c m

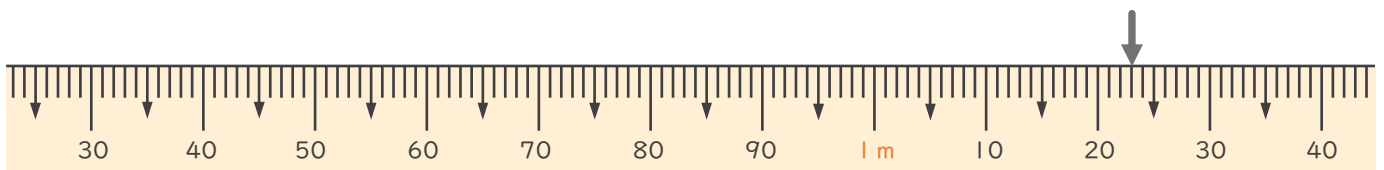
② 1 m 3 8 c m

③ 1 m 8 4 c m



3 次のまきじゃくで、 ↓ のメモリが表している長さを読み取りましょう。

(10点)



答え (1 m 2 3 c m)

