




円と球 6

● コンパスを使った
いろいろな作図

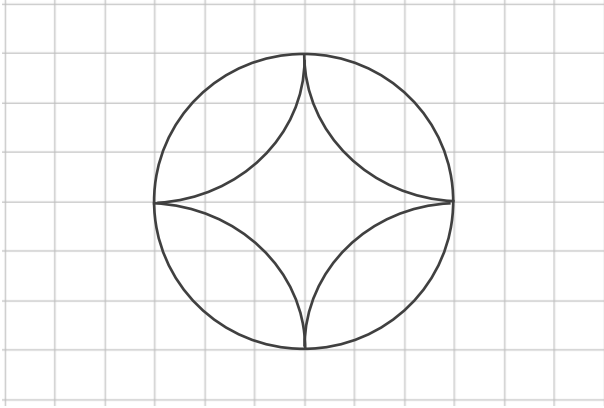
15

目指せ100点!



名まえ _____

① コンパスを使って、次のもようをかきましょう。(50点)



② 直径が6cmの円をかきましょう。

(50点)

•




円と球 6

● コンパスを使った
いろいろな作図

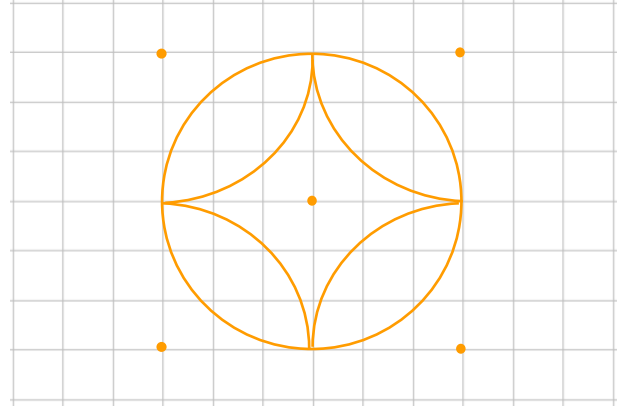
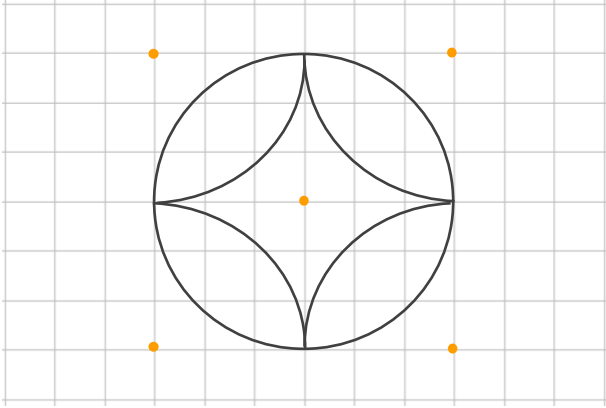
15

目指せ100点!



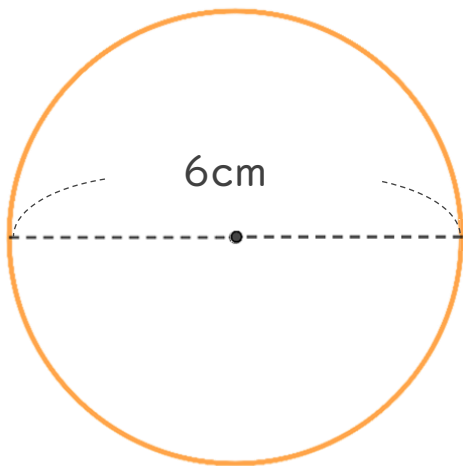
名まえ

① コンパスを使って、次のもようをかきましょう。(50点)



② 直径が6cmの円をかきましょう。

(50点)



半径は 3 cm

円をかいたら
直径が6cmかも
チェックしよう!

