




# 円と球 7

コンパスで長さ比べ

15

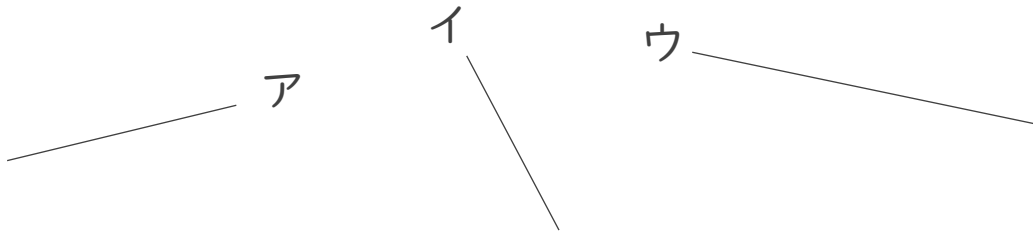
目指せ75点!



名まえ \_\_\_\_\_

1 次の直線の長さをくらべ、長いじゆんに答えましょう。(各25点)

①




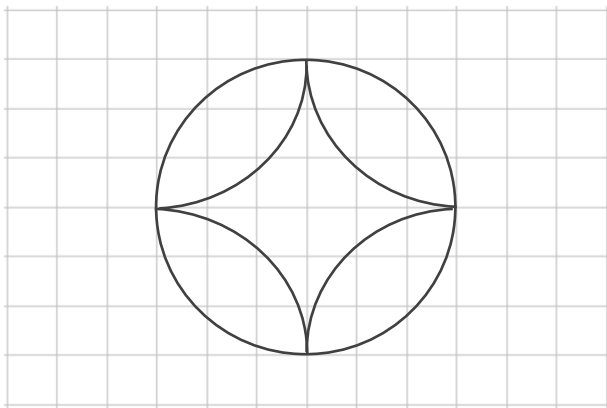
答え：      →      →  
\_\_\_\_\_

②



答え：      →      →  
\_\_\_\_\_

2 コンパスを使って、次のもようをかきましょう。(50点)






# 円と球 7

コンパスで長さ比べ

15

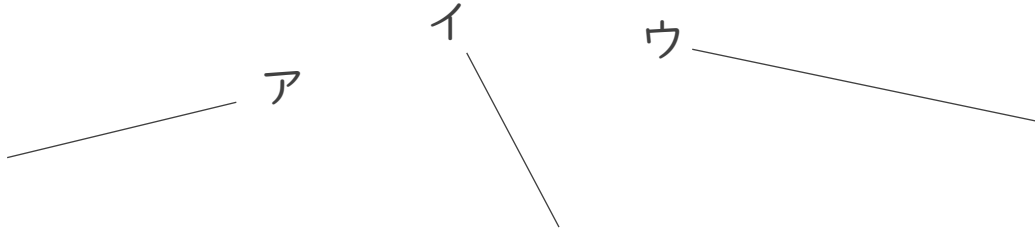
目指せ75点!



名まえ

1 次の直線の長さをくらべ、長いじゆんに答えましょう。(各25点)

①



答え： **ウ** → **ア** → **イ**

②



答え： **ア** → **イ** → **ウ**

2 コンパスを使って、次のもようをかきましょう。(50点)

