




三角形と角 9

◎ 三角定規の角

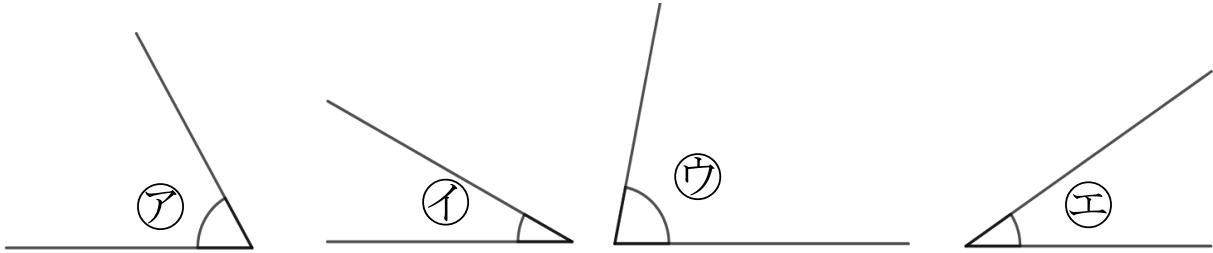
15

めざせ75点!



名まえ _____

1 次の図で、次の角を見つけて、㉠～㉢で答えましょう。(各25点)



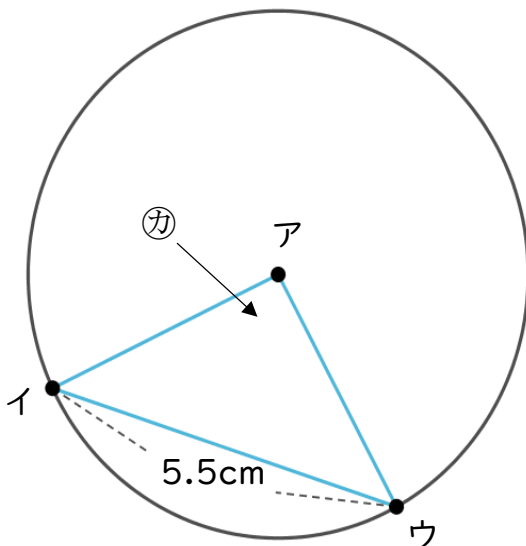
① いちばん大きい角

答え： _____

② いちばん小さい角

答え： _____

2 アの点を中心とした半径4cmの円のまわりに2つの点を決めて、次の図のような三角形をかきました。(各25点)



① アイの辺の長さは何cmですか。

答え： _____

② カは何という三角形ですか。

答え： _____




三角形と角 9

15

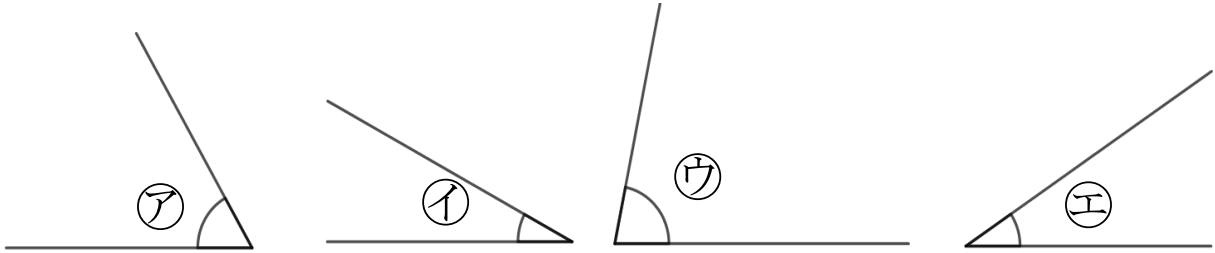
◎ 三角定規の角

めざせ75点!



名まえ _____

1 次の図で、次の角を見つけて、㉠～㉢で答えましょう。(各25点)



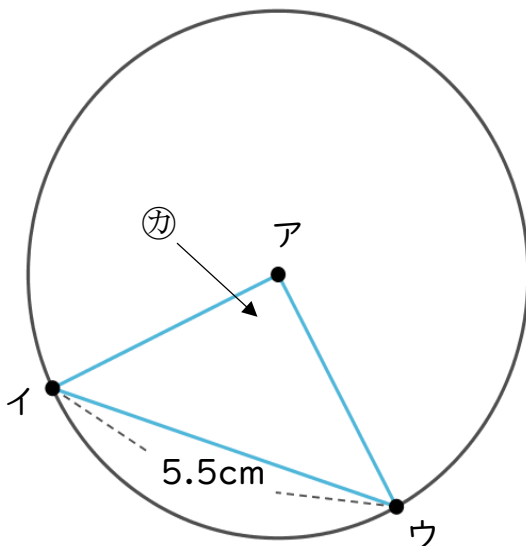
① いちばん大きい角

答え： ㉢

② いちばん小さい角

答え： ㉡

2 アの点を中心とした半径4cmの円のまわりに2つの点を決めて、次の図のような三角形をかきました。(各25点)



① アイの辺の長さは何cmですか。

答え： 4 cm

② カは何という三角形ですか。

答え： 二等辺三角形